

اختبار فكري (تحريري) لمادة المهارات الرقمية ثاني متوسط الفصل الاول

٣

أسم الطالبة : الفصل :

السؤال الاول: ظللي الإجابة الصحيحة فيما يلي :

١	هي نظام يمكن من خلاله تنظيم البيانات وإدارتها :	<input type="radio"/>	قاعدة البيانات	<input type="radio"/>	البيانات	<input type="radio"/>	المعلومات
٢	يمكن إنشاء نموذج إلكتروني باستخدام :	<input type="radio"/>	مايكروسوفت وورد	<input type="radio"/>	مايكروسوفت بوربوينت	<input type="radio"/>	نماذج ميكروسوفت
٣	إذا كان حقل الاسم يحتوي على نص، فستفرز البيانات :	<input type="radio"/>	ابجدياً	<input type="radio"/>	من الأصغر الى الأكبر	<input type="radio"/>	من الأكبر الى الأصغر
٤	نوع من أنواع الأسئلة عبارة عن مقياس يستخدم لقياس الآراء حول موضوع ما في النموذج :	<input type="radio"/>	المقالية	<input type="radio"/>	الاختيار المتعدد	<input type="radio"/>	ليكرت
٥	يطبق اذا كان لديك سجلات كثيرة وتريد فقط رؤية سجلات تشترك في بيانات محددة :	<input type="radio"/>	الفرز متعدد المستويات	<input type="radio"/>	عامل تصفية	<input type="radio"/>	فرز البيانات
٦	مجموعة من الحقائق مثل الكلمات والأرقام والقياسات لم يتم تحليلها أو معالجتها بأي طريقة :	<input type="radio"/>	البيانات	<input type="radio"/>	المعلومات	<input type="radio"/>	المعرفة

٢

السؤال الثاني : اكتبى أربعة من أنواع الأسئلة في النماذج الإلكترونية:

--	--	--	--



السؤال الثالث: ضعي علامة (✓) عند العبارة الصحيحة وعلامة (✗) عند العبارة الخاطئة:

	١. المعلومات هي بيانات تم معالجتها أو تنظيمها أو تقديمها في سياق معين للوصول لمعرفة أ وحقائق .
	٢. توفر النماذج عبر الانترنت حلاً مناسباً لجمع البيانات التي تحتاجها بطريقة آلية وسريعة.
	٣. يفيد فرز السجلات في العثور على ما تبحث عنه بسهولة .
	٤. لا تستطيع مشاركة نموذجك عبر الانترنت لأي شخص آخر.
	٥. تتكون قاعدة البيانات من جدول واحد فقط .
	٦. لا يمكن أن يحتوي الاستطلاع إلا على نوع واحد من الأسئلة .

انتهت الاسئلة تمنياتي لکن بالتوفيق

مديرة المدرسة : فاطمه الثواب

معلمة المادة : عير الغريب

اختبار فكري (تحريري) لمادة المهارات الرقمية ثاني متوسط الفصل الاول لعام

٣

أسم الطالبة : نموذج الإجابة الفصل :

السؤال الاول: ظللي الإجابة الصحيحة فيما يلي :

١	هي نظام يمكن من خلاله تنظيم البيانات وإدارتها :	<input type="radio"/>	قاعدة البيانات	<input type="radio"/>	البيانات	<input type="radio"/>	المعلومات
٢	يمكن إنشاء نموذج إلكتروني باستخدام :	<input type="radio"/>	مايكروسوفت وورد	<input type="radio"/>	مايكروسوفت بوربوينت	<input checked="" type="radio"/>	نماذج ميكروسوفت
٣	إذا كان حقل الاسم يحتوي على نص، فستفرز البيانات :	<input type="radio"/>	ابجدياً	<input type="radio"/>	من الأصغر الى الأكبر	<input type="radio"/>	من الأكبر الى الاصغر
٤	نوع من أنواع الأسئلة عبارة عن مقياس يستخدم لقياس الآراء حول موضوع ما في النموذج :	<input type="radio"/>	المقالية	<input type="radio"/>	الاختيار المتعدد	<input checked="" type="radio"/>	ليكرت
٥	يطبق اذا كان لديك سجلات كثيرة وتريد فقط رؤية سجلات تشترك في بيانات محددة :	<input type="radio"/>	الفرز متعدد المستويات	<input checked="" type="radio"/>	عامل تصفية	<input type="radio"/>	فرز البيانات
٦	مجموعة من الحقائق مثل الكلمات والأرقام والقياسات لم يتم تحليلها أو معالجتها بأي طريقة :	<input checked="" type="radio"/>	البيانات	<input type="radio"/>	المعلومات	<input type="radio"/>	المعرفة

٢

السؤال الثاني : اكتبى أربعة من أنواع الأسئلة في النماذج الإلكترونية:

الأسئلة المقالية	الأسئلة المقالية المقيدة	أسئلة الاختيار من متعدد	أسئلة ليكرت	أسئلة التقييم
------------------	--------------------------	-------------------------	-------------	---------------



السؤال الثالث: ضعي علامة (✓) عند العبارة الصحيحة وعلامة (✗) عند العبارة الخاطئة:

✓	١. المعلومات هي بيانات تم معالجتها أو تنظيمها أو تقديمها في سياق معين للوصول لمعرفة أ وحقائق .
✓	٢. توفر النماذج عبر الانترنت حلاً مناسباً لجمع البيانات التي تحتاجها بطريقة آلية وسريعة.
✓	٣. يفيد فرز السجلات في العثور على ما تبحث عنه بسهولة .
✗	٤. لا تستطيع مشاركة نموذجك عبر الانترنت لأي شخص آخر.
✗	٥. تتكون قاعدة البيانات من جدول واحد فقط .
✗	٦. لا يمكن أن يحتوي الاستطلاع إلا على نوع واحد من الأسئلة .

انتهت الاسئلة تمنياتي لکن بالتوفيق

مديرة المدرسة : فاطمه الثواب

معلمة المادة : عير الغريب

درجة لكل فقرة

السؤال الأول : - اكتب المصطلح المناسب مما يلي : -

تطبيق كاتفا

مخطط المعلومات البياني

عامل تصفية

البيانات




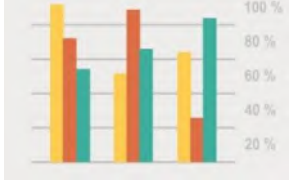
سهل الاستخدام لتصميم الرسومات ويمكن من خلالها جعل الأفكار المعقدة والكميات الكبيرة من البيانات سهلة الفهم	
تمثيل مرئي ملخص للمعلومات أو البيانات أو المعرفة	
يطبق إذا كان لديك سجلات كثيرة وتريد فقط رؤية سجلات تشترك في بيانات محددة	
مجموعة من الحقائق مثل الكلمات والأرقام والقياسات لم يتم تحليلها أو معالجتها بأي طريقة	

نصف درجة لكل فقرة

السؤال الثاني : أ- ضع علامة \checkmark أو X :

١	الطريقة الشائعة لجمع البيانات هي استخدام النماذج عبر الانترنت
٢	دُفتر العناوين الإلكتروني يعتبر مثال على قاعدة البيانات الضخمة والمعقدة
٣	إتشاء مخطط معلومات بياني جيد تحتاج إلى معلومات مبالغ فيها
٤	لا تستطيع مشاركة نموذجك عبر الانترنت لأي شخص آخر

السؤال الثاني: ب- اكتب نوع المخطط البياني :

			
.....

نموذج الاجابة

الاسم :

الصف :

٨

درجة لكل فقرة

السؤال الأول : - اكتب المصطلح المناسب مما يلي : -

تطبيق كانفا

مخطط المعلومات البياني

عامل تصفية

البيانات




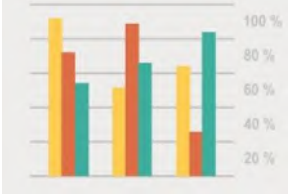
سهل الاستخدام لتصميم الرسومات ويمكن من خلالها جعل الأفكار المعقدة والكميات الكبيرة من البيانات سهلة الفهم	تطبيق كانفا
تمثيل مرئي ملخص للمعلومات أو البيانات أو المعرفة	مخطط المعلومات
يطبق اذا كان لديك سجلات كثيرة وتريد فقط رؤية سجلات تشترك في بيانات محددة	عامل تصفية
مجموعة من الحقائق مثل الكلمات والأرقام والقياسات لم يتم تحليلها أو معالجتها بأي طريقة	البيانات

نصف درجة لكل فقرة

السؤال الثاني : أ- ضع علامة \checkmark أو \times :

\checkmark	١	الطريقة الشائعة لجمع البيانات هي استخدام النماذج عبر الانترنت
\times	٢	دفتر العناوين الإلكتروني يعتبر مثال على قاعدة البيانات الضخمة والمعقدة
\times	٣	إتشاء مخطط معلومات بياني جيد تحتاج إلى معلومات مبالغ فيها
\times	٤	لا تستطيع مشاركة نموذجك عبر الانترنت لأي شخص آخر

السؤال الثاني: ب- اكتب نوع المخطط البياني :

			
الخريطة أو الموقع	الزمني	الهرمي	المفرد

انتهت الاسئلة

١٢

الصف :

الاسم :

السؤال الأول : اربط الصورة مع وظيفتها من خلال كتابة الرقم في الخانة :-

وضع قيود عديدة

.....

الإجابة تكون نص حر

.....

مقياس التقييم

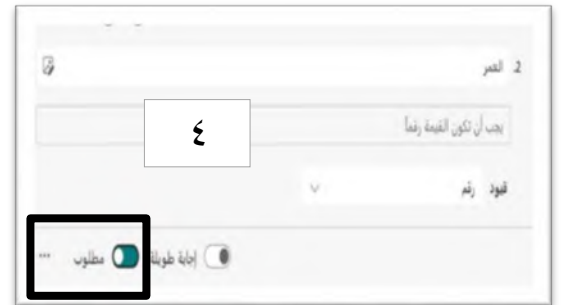
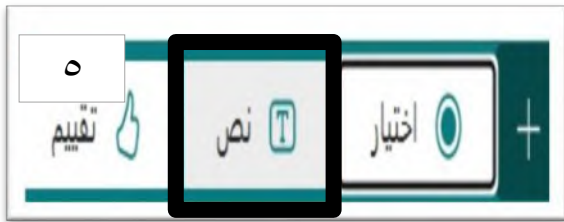
.....

تكون اجابة السؤال الزامية

.....

إنشاء نموذج جديد

.....



السؤال الثاني : ضع علامة √ أو X :

١	عند إنشاء ملف جديد في برنامج كانفا يتم فقد الملف السابق
٢	لا يمكن التعديل على النص في برنامج كانفا
٣	يخزن كانفا بياناتك على السحابة بحيث تكون متاحة لك من خلال أي حاسب متصل بالإنترنت
٥	لإضافة صورة في كانفا لا بد أن تكون محفوظة في جهاز الحاسب الخاص بك
٦	في كانفا لا تستطيع مشاركة أعمالك مع الآخرين
٧	لا تستطيع حذف عنصر معين من مخطط المعلومات البياني في كانفا

نموذج الإجابة

الاسم :

الصف :

١٢

السؤال الأول : اربط الصورة مع وظيفتها من خلال كتابة الرقم في الخانة :-

إنشاء نموذج جديد

٢

تكون اجابة السؤال الزامية

٤

مقياس التقييم

٣

الإجابة تكون نص حر

٥

وضع قيود عددية

١



السؤال الثاني : ضع علامة √ أو X :

X	عند إنشاء ملف جديد في برنامج كانفا يتم فقد الملف السابق	١
X	لا يمكن التعديل على النص في برنامج كانفا	٢
√	يخزن كانفا بياناتك على السحابة بحيث تكون متاحة لك من خلال أي حاسب متصل بالإنترنت	٣
X	لإضافة صورة في كانفا لا بد أن تكون محفوظة في جهاز الحاسب الخاص بك	٥
X	في كانفا لا تستطيع مشاركة أعمالك مع الآخرين	٦
X	لا تستطيع حذف عنصر معين من مخطط المعلومات البياني في كانفا	٧

اختبار الفترة لمادة المهارات الرقمية للصف الثاني متوسط (نظري)

الاسم : الفصل:.....

السؤال الأول / اكتب المصطلح المناسب :

- 1/ (.....) نظام يمكن من خلاله إدارة البيانات وتنظيمها .
- 2/ (.....) مجموعة من الحقائق مثل الكلمات والأرقام التي لم يتم تحليلها ومعالجتها
- 3/ (.....) تمثيل مرئي ملخص للمعلومات او البيانات او المعرفة .

السؤال الثاني / اكتب كلمة صح أمام العبارة الصحيحة وكلمة خطأ أمام العبارة الخاطئة فيما يأتي :

- 1/ المخطط الزمني مناسب لبيان التغييرات التي ظهرت في مدة زمنية ما ()
- 2/ مخطط المعلومات البياني يوضح العلاقات بين البيانات ()
- 3/ اهم مميزات مخطط المعلومات البياني انه يقدم البيانات بطريقة مختصرة ومركزة ()
- 4/ برنامج handbase يعمل مع نظام اندرويد فقط ()
- 5/ مخطط الخريطة يستخدم في المستويات ()
- 6/ تتكون قاعدة البيانات من جدول واحد فقط ()

السؤال الثالث : عددي 2 لكل من :

- 1/ الخصائص و الأمور التي يجب مراعاتها لتصميم مخطط معلومات بياني .

.....-

.....-

- 2/ خطوات تصميم قاعدة البيانات .

.....-

.....-

- 3/ مميزات استخدام مخطط المعلومات البياني

.....-

.....-

انتهت الأسئلة بالتوفيق

أ/خلود

اختبار الفترة الأولى الصف الثاني متوسط

الاسم :

الصف :

اختباري الإجابة الصحيحة:			
2	البيانات + = معلومات	أ.المعلومات	ب.البيانات
4	طريقة شائعة لجمع البيانات تستخدم للحصول على مجموعة واسعة من البيانات لأغراض متعددة من قبل الأفراد والمؤسسات	أ.المعلومات	ب.النماذج عبر الانترنت
5	هي مقياس يستخدم لقياس الآراء حول موضوع ما	أ.الاسئلة المقالية	ب.اسئلة الاختبار من متعدد
6	يتم مقياس تقديم ملاحظات بسرعه وسهولة	أ.التقييم	ب.اسئلة الاختبار من متعدد
8	لعرض مجموعة من السجلات فبننا نطبق	أ.عامل التصفية	ب.البيانات
9	فرز بيانات قاعدة البيانات وفقا لحقول متعددة بدلا من حقل واحد	أ.عامل التصفية	ب.اسئلة ليكرت

أكتب كلمة صح أمام العبارة الصحيحة وكلمة خطأ أمام العبارة الخاطئة	
الإجابة	العبارة
1	تأتي كلمة بيانات من كلمة انجليزية مفردة وهي Datum
2	تتكون قاعدة البيانات من جدول أو عدة جداول
3	جدول قاعدة البيانات يتكون من عدة سجلات
4	النموذج عبر الانترنت هو صفحة الكترونية تفاعلية أو نموذج HTML
5	لا يمكن تحديد ما إذا كانت الأسئلة داخل النموذج إلزامية أو اختيارية
6	يستطيع المستخدم تقديم النموذج دون الإجابة عن الأسئلة الإلزامية
7	عند اختيار السؤال (نص) في النموذج فيمكن للمستخدمين الإجابة برد نصي حر
8	يمكن السماح للمشاركة باختيار أكثر من إجابة عند تفعيل الخيار (مطلوب)
9	يمكن معاينة النموذج ومعرفة كيف يبدو عبر الانترنت على الأجهزة المحمولة فقط
10	عند فرز الحقول من "ي الى أ" والتي تحتوي على أرقام فإنها تفرز بشكل تصاعدي

عددي انواع الاسئلة التي يمكن ان يحتوي عليها الاستطلاع	
1	
2	
3	
4	
5	
طرق مشاركة النموذج مع الاخرين:	
1	
2	
3	
4	



الاختبار النظري لمادة مهارات رقمية للصف الثاني متوسط الفترة (١)

اسم الطالبة: الصف:

السؤال الأول: اختاري الإجابة الصحيحة:

1 هي نظام يمكن من خلاله تنظيم البيانات وإدارتها.						
أ	البيانات	ب	المعلومات	ج	قاعدة البيانات	د	الفورمز
2 تستخدم للحصول على مجموعة واسعة من البيانات التي تحتاجها لأغراض متعددة بطريقة آلية وسريعة.						
أ	الكانفا	ب	البوربوينت	ج	نماذج الانترنت	د	الاكسل
3	إذا اردت رؤية مجموعة محددة من السجلات فاستخدم						
أ	السجل	ب	النموذج	ج	عامل التصفية	د	عامل الفرز
4 يبسط المعلومات المعقدة ويشرحها بطريقة مرنة وفعالة .وهو مناسب بشكل مثالي لعلم الأحياء.						
أ	المخطط الهرمي	ب	مخطط الخريطة	ج	المخطط الزمني	د	المخطط التشريحي
5	من مميزات استخدام مخطط المعلومات البياني:						
أ	إضافة العديد من الألوان	ب	جذب الانتباه وتوليد الاهتمام	ج	كثرة استخدام الصور	د	لعمل مقارنة بين البيانات

السؤال الثاني: ضعي علامة (√) أو (×) أمام العبارات التالية:

1	تتكون قاعدة البيانات من جدول أو عدة جداول	
2	يعتبر الرقم (333) معلومات وبيانات في آن واحد	
3	يمكن فرز البيانات النصية ابجدياً من أي والعكس	
4	يعرف مخطط المعلومات البياني بأنه تمثيل مرئي ملخص للمعلومات أو البيانات أو المعرفة	

السؤال الثالث: أكتبي المصطلح المناسب :

1. عبارة عن مجموعة من الحقائق، لم يتم تحليلها أو معالجتها بأي طريقة.
2. معالجة البيانات، أو تنظيمها، أو تقديمها في سياق معين للوصول لمعرفة أو حقائق.

انتهت الأسئلة وفقن الله



الاختبار النظري لمادة مهارات رقمية للصف الثاني متوسط الفترة (1)

اسم الطالبة: الصف:

السؤال الأول: اختاري الإجابة الصحيحة:

1تستخدم للحصول على مجموعة واسعة من البيانات التي تحتاجها لأغراض متعددة بطريقة آلية وسريعة.						
أ	نماذج الانترنت	ب	البوربوينت	ج	الكانفا	د	الاكسل
2هي نظام يمكن من خلاله تنظيم البيانات وإدارتها.						
أ	البيانات	ب	قاعدة البيانات	ج	المعلومات	د	الفورمز
3	يمكن ترتيب البيانات النصية ابجدياً من أ-ي والعكس						
أ	السجل	ب	النموذج	ج	عامل التصفية	د	عامل الفرز
4	من مميزات استخدام مخطط المعلومات البياني:						
أ	إضافة العديد من الألوان	ب	جذب الانتباه وتوليد الاهتمام	ج	كثرة استخدام الصور	د	لعمل مقارنة بين البيانات
5	يقدم المعلومات بصريا فيما يتعلق بالمناطق الجغرافية ويفضل استخدامه عند مقارنة الأماكن والثقافات.						
أ	المخطط الهرمي	ب	المخطط التشريحي	ج	المخطط الزمني	د	مخطط الخريطة

السؤال الثاني: ضعي علامة (√) أو (×) أمام العبارات التالية:

1	تتكون قاعدة البيانات من جدولين
2	يعتبر الرقم (333) بيانات .
3	إذا اردت رؤية مجموعة محددة من السجلات استخدم عامل التصفية.
4	يعرف مخطط المعلومات البياني بأنه تمثيل مرئي ملخص للمعلومات أو البيانات أو المعرفة

السؤال الثالث : (أ) أكتبي المصطلح المناسب :

1. عبارة عن مجموعة من الحقائق، لم يتم تحليلها أو معالجتها بأي طريقة.
2. معالجة البيانات، أو تنظيمها، أو تقديمها في سياق معين للوصول لمعرفة أو حقائق.

انتهت الأسئلة وفقن الله



الاختبار النظري لمادة مهارات رقمية للصف الثاني متوسط الفترة (1)

اسم الطالبة: الصف:

السؤال الأول: ضع علامة (✓) أو (×) أمام العبارات التالية:

1	تتكون قاعدة البيانات من جدول أو عدة جداول
2	يعتبر الرقم (333) معلومات .
3	يمكن فرز البيانات النصية ابجدياً من أي فقط
4	يعرف مخطط المعلومات البياني بأنه تمثيل مرئي ملخص للمعلومات أو البيانات أو المعرفة

السؤال الثاني: اختاري الإجابة الصحيحة:

1 هي نظام يمكن من خلاله تنظيم البيانات وإدارتها.						
أ	الفورمز	ب	قاعدة البيانات	ج	المعلومات	د	البيانات
2 تستخدم للحصول على مجموعة واسعة من البيانات التي تحتاجها لأغراض متعددة بطريقة آلية وسريعة.						
أ	الكانفا	ب	البوربوينت	ج	نماذج الإنترنت	د	الأكسل
3	إذا اردت رؤية مجموعة محددة من السجلات فاستخدم						
أ	النموذج	ب	عامل التصفية	ج	عامل الفرز	د	السجل
4 يعرض الأحداث بترتيب زمني مناسب لتسهيل فهم قصة معقدة .						
أ	المخطط الهرمي	ب	المخطط التشريحي	ج	المخطط الزمني	د	مخطط الخريطة
5	من مميزات استخدام مخطط المعلومات البياني:						
أ	إضافة العديد من الألوان	ب	جذب الانتباه وتوليد الاهتمام	ج	كثرة استخدام الصور	د	لعمل مقارنة بين البيانات

السؤال الثالث: أكتبي المصطلح المناسب :

1. معالجة البيانات، أو تنظيمها، أو تقديمها في سياق معين للوصول لمعرفة أو حقائق.
2. عبارة عن مجموعة من الحقائق، لم يتم تحليلها أو معالجتها بأي طريقة.

انتهت الأسئلة وفقن الله