

اختبار منتصف الفصل لمقرر مبادئ اقتصاد للصف ثاني ثانوي - إدارة اعمال

١٠

اسم الطالبة:

السؤال الأول: ضعي المصطلح المناسب:

[السوق - الحاجات الانسانية - الارض - الخدمة - المشكلة الاقتصادية - الاقتصاد الكلي - رأس المال - السلعة المكملة - الموارد الاقتصادية - السلعة البديلة - السلعة - علم الاقتصاد]

١. هو فرع من علوم الاقتصاد يركز على الجوانب الكلية مثل الدخل القومي و التوظيف و مستوى الاسعار

٢. هي التي تستهلك مع سلعة اخرى

٣. عدم قدرة المجتمع على اشباع جميع حاجاته في ظل ندرة الموارد المتاحة

٤. نظام يجمع بين البائع و المشتري لتبادل المعلومات و التفاهم على السعر

٥. نشاط اقتصادي يحقق منفعة مقابل النقود

٦. شعور بالحرمان يدفع الانسان للقيام بعمل معين لاشباع هذه الحاجة

٧. ما يملكه المجتمع و يمكن الاستفادة منه

٨. شي يسلم للمشتري بغرض زيادة المنفعة لديه

٩. هو علم يهتم بدراسة السلوك الاقتصادي للأفراد و المجتمعات كالإنتاج و الاستهلاك و الادخار

١٠. هو الموارد المصنعة من المعدات و الآلات التي تستخدم لانتاج السلع

٣

السؤال الثاني: ضعي علامة √ أمام العبارة الصحيحة و علامة X أمام العبارة الخاطئة:

١. يوجد في أي سوق طرفان هما البائع و المشتري .


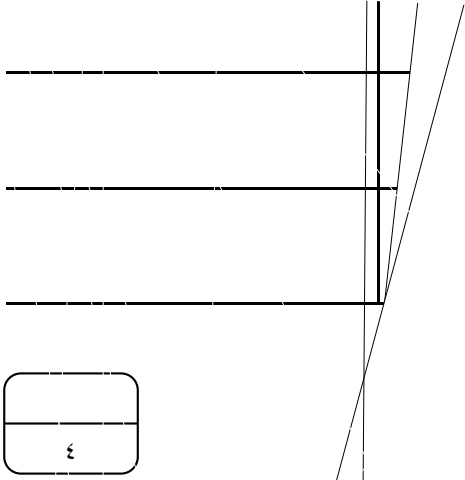
[]

٢. السلعة الاستهلاكية تحقق منفعة غير مباشرة مثل آلة الحصاد الزراعية .

[]

٣. تنقسم عناصر الانتاج إلى الموارد الطبيعية و الموارد البشرية .

[]



انتهت الاسئلة

معلمة المادة : أ. مضاوي الشمري



بسم الله الرحمن الرحيم
الاختبار الفكري لمقرر مبادئ الاقتصاد للصف الثاني ثانوي مسار إدارة الأعمال
الاسم/

السؤال الأول اكتبى المصطلح الإداري المناسب

- 1- شئى يسلم الي المشتري بغرض زيادة المنفعة لديه ويتضمن انتقال الملكيه من البائع الي المشتري []
- 2- شعور بالحرمان يدفع الانسان للقيام بعمل معين []
- 3- نظام يجمع بين البائع والمشتري لتبادل المعلومات والتفاهم على السعر وإنجاز صفقة البيع مقابل النقود []
- 4- ما يملكه المجتمع ويمكنه الاستفاده منه []

السؤال الثانى اكملى الفراغ بمايناسب....

- ينقسم علم الاقتصاد الي اقتصاد.....و.....
- تعتبر أسطوانة الغاز والموقد سلعتان.....اما لبن المراعي ولبن نادك سلعتان.....
- السلعه التي تحقق منفعه مباشره تسمى.....اما السلعه التي تكون منفعتها غير مباشره.....
- من الموارد الاقتصاديه.....و.....و.....
- من أنواع الأسواق.....و.....و.....

السؤال الثالث ضعي علامة صح امام العبارة الصحيحه وعلامة خطأ امام العبارة الخاطئه

- المنتجات الاقتصاديه اما سلع او خدمات ()
- من خصائص الخدمات انها قابله للتخزين ()
- من أنواع الحاجات الحاجه الي الامن ()
- السلع المعمره هي التي هي التي لاتبلى سريعا ()
- النظام الاقتصادي الذي مبدئه الحريه الاقتصاديه هو الاشتراكي ()
- النظام الإسلامى يقر المصلحه العامه فقط ()
- الخدمات عباره عن نشاط اقتصادي يحقق منفعه ولا يترتب عليه نقل ملكيه ()

السؤال الرابع:

- عددي أسباب المشكله الاقتصاديه؟

.....
.....
.....

انتهت الاسئله دعواتي لكن بالتوفيق

اسم الطالبية:

اختاري الإجابة الصحيحة من الاختيارات المتعددة

١ - تعتمد السعودية في صرف عملتها بعلاقة مع الدولار الأمريكي وهو ما يعرف بـ			
أ - نظام التعويم للعملة	ب - سعر الصرف الثابت	ج - نظام التعويم المدار	د - نظام العملة
٢ - طالب سعودي أنفق في امريكي ٢٥٠,٠٠٠ دولار أمريكي مقابل بعثة دراسية يسجل في الجانب			
أ- الدائن في ميزان المدفوعات السعودي	ب- لا يسجل في ميزان المدفوعات السعودي	ج- الدائن في ميزان المدفوعات الأمريكي	د- المدين في ميزان المدفوعات السعودي
٣- معينه اساسا بحركة رؤوس الاموال بين الدول مثل الاستثمارات الدولية طويلة الاجل وقصيرة الاجل			
أ - منظمة التجارة العالمية	ب - التجارة الداخلية	ج - المالية الدولية	د - التجارة الدولية
٤- قامت البحرين بالاستيراد من الصين وكانت الصين تعاني من التضخم فان التضخم التي تعاني منه البحرين			
أ - تضخم الحصار	ب - تضخم مستورد	ج - التضخم التكاليف	د- تضخم الطلب
٤- تلتزم الدولة بتفاصيل بنود الاتفاقيات وقوائم السلع والخدمات الملحقه بالاتفاقيات، ولكن يجوز للدولة تعديل بعض التزاماتها بعد التفاوض مع الدول الاعضاء يعرف بـ			
أ- مبدأ صمام الأمان	ب - مبدأ الدولة الأولى بالرعاية	ج - مبدأ الشفافية	د - مبدأ الالتزام
٥- خفض الضرائب وزيادة الانفاق الحكومي من السياسات المالية لعلاج			
أ- الركود الاقتصادي	ب - التضخم	ج- البطالة	د- الانتعاش
٦- تقوم السعودية بالتدخل في تحديد الكميات ونوعية السلع المسموح استيرادها خلال العام من كل سلعة ولا بد ان يحصل المستورد على إذن الاستيراد فإن ذلك يعرف بـ			
أ - قيود التجارة	ب - نظام الحصص	ج - الإعانات الحكومية	د - التعريف الجمركية
٧- تطوير برامج التعليم في الجامعات والمعاهد لعلاج وحل مشكله			
أ- الركود الاقتصادي	ب - البطالة	ج - الفقر	د- التضخم
٨- الاشراف على تنفيذ الاتفاقيات، واتاحة إطار للتفاوض وفض المنازعات منمنظمة التجارة العالمية			
أ- عيوب المنظمة	ب - مزايا المنظمة	ج- مبادئ المنظمة	د - وظائف المنظمة
٩- التخطيط وتوفير البيانات وتوفير الإمكانيات ونشر الوعي من			
أ- أهداف التنمية الاقتصادية	ب- متطلبات التنمية الاقتصادية	د- عوامل التنمية الاقتصادية	ج- مؤشرات التنمية الاقتصادية
١٠- من أسباب البطالة			
أ- الاستعانة بالأيدي العاملة الاجنبية	ب- قلة السكان	ج- زيادة التدريب والتأهيل	د- السفر للخارج
١١- تراجع الطلب الكلي في مواجهة العرض الكلي وانخفاض المستوي العام للأسعار وزيادة معدلات البطالة من			
أ- خصائص التضخم	ب- آثار الركود الاقتصادي	ج- علاج الركود الاقتصادي	د- خصائص الركود الاقتصادي
١٢- ارتفع سعر كيس الارز من نوع بسمتي من ٣٠ ريال الي ٤٠ ريال فأدي الي انخفاض الكمية المطلوبة من الارز في السوق من ١٠٠ كيس الي ٩٠			
أ- (٠,٣٠) الطلب غير مرن	ب- (٠,٣٠) العرض غير مرن	ج- (٠,٣٠) الطلب مرن	د- (٠,٣٠) العرض مرن

ضعي كلمة صح امام العبارة الصحيحة وكلمة خطأ امام العبارة الخاطئة

١	ميزان المدفوعات بيان حسابي تسجل فيه جميع المعاملات الاقتصادية بين المقيمين داخل الدولة فقط خلال فترة زمنية معينة
٢	تقوم التجارة العالمية بين الدول لتلبية احتياجات المواطنين وتصريف فائض الإنتاج
٣	الركود الاقتصادي يفيد أصحاب الدخل الثابتة ويضر التجار ونحوهم
٤	من اهداف التنمية الاقتصادية زيادة الدخل القومي
٥	التضخم الحاد يضر بالتنمية الاقتصادية بينما التضخم الزاحف يفيد التنمية الاقتصادية

اخاري من القائمة (ب) ما يناسبها من القائمة (أ) في الجدول

م	القائمة الاولى (أ)	الإجابة	القائمة الثانية (ب)
١	محمد شاب لديه شهادة ومهارات احترار بين وظيفتين		أ - البطالة المقنعة
٢	الانفاق على مشاريع البنية التحتية لقطاع النقل من مطارات وسكة حديد وطرق		ب - البطالة الاجبارية
٣	وفاء تعمل في وظيفة اقل من مؤهلاتها بسبب حاجتها		ج - الانفاق الحكومي
٤	عادل شاب لديه شهادة ومهارات لكنة لا يستطيع العمل بسبب الحرب		د - البطالة الاحتكاكية (الوظيفية)
٥	منى لديها شهادة ومهارات وتعمل في موسم الحج		هـ - الناتج القومي
٦	النسبة المنوية او المبلغ الثابت التي تفرضها الدولة من قيمة السلعة		و - الانفاق الاستهلاكي
٧	قامت أسرة منى بشراء مجموعة من الاجهزة وثلاجة لمنزلهم الجديد		ز - البطالة الموسمية
٨	ارتفاع أسعار المواد الخام واجور العمال يعني		ح - التعريف الجمركية
٩	مجموعة ما ينتجه المواطنون في داخل الدولة وخارجها		ط - تضخم الطلب
١٠	البضاعة التي يتم تصديرها الى الدول الأخرى		ي - الصادرات

انتهت الأسئلة..

ارجو لكِ مزيد من التفوق والنجاح،

معلمة المادة: فاطمة باسليمان



السؤال الأول:

أ) ضعي علامة (√) أمام العبارة الصحيحة وعلامة (X) أمام العبارة الخاطئة :

- (١) العرض هو رغبة المستهلك في شراء سلعة مع قدرته على دفع ثمنها. ()
- (٢) قانون الطلب أنه إذا ارتفعت الأسعار تقل الكمية المطلوبة. ()
- (٣) هناك علاقة طردية بين الكمية المطلوبة وسعرها. ()
- (٤) كلما زاد عدد الأفراد في منطقة معينة زاد الطلب على السلع والخدمات. ()
- (٥) قانون العرض إذا زاد السعر لسلعة معينة تزيد الكمية المعروضة عليها. ()
- (٦) العلاقة عكسية بين السعر والكمية المعروضة. ()
- (٧) إذا رفعت الحكومة الضرائب على منتج معين فإن العرض يزيد. ()
- (٨) عند توازن السوق يوجد سعر وحيد يتوافق عند الطلب والعرض . ()

ب) اختاري الإجابة الصحيحة :

- ١- الطلب المرن يكون ..
أ- أكبر من ١ ب- يساوي ١ ج- اصغر من ١ د- لا نهائي المرونة
- ٢- مصنع تمور ينتج ٥٠٠ كيلو جرام من التمور يوزع ٢٥٠ منها على الجمعيات الخيرية ماهي كمية السلعة عند عرض السوق:
أ) ٢٥٠ ب) ٢٠٠ ج) ٥٠ د) صفر
- ٣- مصنع لإنتاج الملابس ينتج ١٠٠٠ قطعة منها ١٠٠ قطعة تالفة و١٥٠ توزع على الجمعيات الخيرية ٥٠ قطعة يحتفظ بها لاستخدامها الخاص ماهي كمية السلعة عند عرض السوق:
أ) ٧٥٠ ب) ٧٠٠ ج) صفر د) ١٠٠
- ٤- الرمز التالي يدل : $\% \Delta Q_d$
أ) نسبة التغير ب) الكمية المعروضة ج) نسبة التغير في الكمية المعروضة د) نسبة التغير في الكمية المطلوبة
- ٥- الرمز التالي يدل : $E_s > ١$
أ) عديم المرونة ب) احادي المرونة. ج) عرض مرن د) طلب مرن .

ج) وضح أثر كل عامل من العوامل التالية على الطلب والعرض بالزيادة أو النقص ::

العوامل المؤثرة في العرض	ينقص	يزيد
انخفاض الإعانات الحكومية		
تحسن مستوى التقنية المستخدمة		
زيادة الضرائب		

العوامل المؤثرة في الطلب	ينقص	يزيد
توقع انخفاض الأسعار مستقبلاً		
زيادة عدد المستهلكين		
ازدياد رغبة المستهلك في السلعة		



السؤال الثاني:

أ) املي الفراغ فيما يناسب : (عرض طلب توازن السوق فاض عرض فائض طلب)

- ١- الحالة التي يستقر السوق فيها عند سعر معين
- ٢- الزيادة في الكمية المطلوبة عن الكمية المعروضة عند كل سعر .
- ٣- رغبة المستهلك في شراء سلعه مع قدرته على دفع ثمنها
- ٤- الزيادة في الكمية المعروضة عن الكمية المطاوعة عند كل سعر . .
- ٥- رغبة المنتج في بيع سلعه مع قدرته على انتاجها .

ب) احسبي ما يلي :

٢/ احسبي معامل المرونة لسعر نصف الكيلو جرام من أرز بسمتي في منطقة المدينة المنورة. إذا علمت بأن السعر انخفض من 12 إلى 10 ريال. مما أدى إلى انخفاض الكمية المعروضة في الأسواق من 200 كيس إلى 100 كيس. وحددي نوع المرونة لهذه السلعة؟

١/ احسبي مرونة الطلب لكيس أرز الشعلان في منطقة الرياض. إذا علمت بأن السعر انخفض من 50 إلى 40 ريال. مما أدى إلى زيادة الكمية المطلوبة من 100 كيس إلى 90 كيس. وحددي نوع المرونة لهذه السلعة؟

٣/ إذا علمت بأن سعر الغسالات الأوتوماتيكية من شركة LG انخفض بنسبة 20%. مما أدى إلى انخفاض الكمية المعروضة بنسبة 20% ... المطلوب: احسبي المرونة لهذه السلعة؟ حددي نوع المرونة؟

ج) اكمل الجدول التالي لإيجاد فائض الطلب وفائض العرض ؟

فائض العرض	فائض الطلب	الكمية المعروضة	الكمية المطلوبة	السعر
		600	200	7
		500	300	6
		400	400	5
		300	500	4

سعر التوازن ()

كمية التوازن ()

• ارسمي المنحنى البياني موضحة سعر التوازن على الرسم؟

الرسم خلف الصفحة

انتهت الأسئلة .. تمنياتي لك بالتوفيق

معلمتك : مروه الحميد.

السؤال الأول :

أضعى دائره حول الإجابة الصحيحة فيما يلى :

١٠

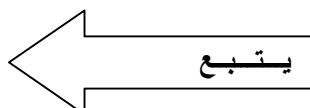
- ١- من أهم المبادئ التي يقوم عليها النظام الإقتصادي الإسلامي:
أ- الوسطية والتوازن- التخطيط المركزي- الملكية الخاصة -د- الانفاق الاستثماري
- ٢- هي الحاجات المتعلقة بتجنب الأخطار أو التهديدات:
أ- الحاجات الأساسية ب- الاحاجات الاجتماعية ج- حاجات الأمن -د- حاجة الاصدقاء
- ٣- هي السلع التي تقدم نفس المنفعة الأصلية:
أ- السلع المستقلة ب- السلع المكملة ج- السلع البديلة -د- السلع المعمرة
- ٤- يمكن أن نطلق على سوق به بائع واحد يقيد الكمية ويحقق أرباح مرتفعة ب-
أ- سوق الاحتكار ب- سوق القلة ج- سوق المنافسة الكاملة -د- السوق الاقتصادي
- ٥- هو رغبة المستهلك في شراء السلعة مع قدرته على دفع ثمنها :
أ- علم الاجتماع ب- علم النفس ج- علم الاقتصاد -د- الطلب
- ٦- هو الذي تتساوى عنده الكمية المطلوبة من المستهلكين مع الكمية المعروضة من المنتجين:
أ-مرونة الطلب السعرية ب- السعر التوازني ج - منحني العرض -د-العوامل المؤثرة في الطلب
- ٧- تختلف التجاره الدولية عن التجاره الداخليه بسبب ..
أ- تلبية إحتاجات المواطنين ب-إختلاف الأنظمه والقوانينج- حماية المنتجات المحليه -د-المنافسة الكاملة
- ٨- يدرس سلوك الوحدات التي تتخذ القرار داخل الاقتصاد مثل المستهلكين والافراد ..
أ- الإقتصاد الكلي ب-سوق المنافسه الكامله ج-الإقتصاد الجزئيد- سوق الاحتكار
- ٩- يبين الزيادة في الكمية المعروضه عن الكمية المطلوبة عند كل سعر.
أ- فائض العرض ب- قانون التوازن ج- فائض الطلب -د- الطلب غير المرن
- ١٠- هو انخفاض مستمر في الطلب الكلي يؤدي إلى انخفاض المستوى العام
أ- الإقتصادب- الركود ج- التضخم -د- الاستهلاك

السؤال الثاني :

أضعى المصطلح الإقتصادي المناسب:


١٠

- (البطالة - السوق - الموارد الاقتصادية - الحاجات الإنسانية - التضخم)
- ١- هي ما يملكه المجتمع ويمكنه الإستفادة منه. ()
 - ٢- هي شعور بالحرمان يدفع الإنسان للقيام بعمل معين لإشباع هذه الحاجة. ()
 - ٣- نظام يجمع بين البائع والمشتري لتبادل المعلومات والتفاهم على السعر و إنجاز صفقة تبادل السلعة. ()
 - ٤- هو الارتفاع المستمر في المستوى العام للأسعار لفترة طويلة ()
 - ٥- هي عدم توافر فرص العمل للأفراد القادرين على العمل والباحثين عنه ()



ب-ضعي علامة صح أمام العبارة الصحيحة وعلامة خطأ أمام العبارة الخاطئة :

- ١- هناك علاقة عكسية بين الكمية المطلوبة من السلعة وسعرها () .
- ٢- النمو يتضمن عملية تغير تلقائية تحدث من غير تدخل الإنسان () .
- ٣- الطلب هو رغبة المنتج في بيع سلعة معينة مع قدرته على إنتاجها () .
- ٤- توفر العنصر البشري في أي مجتمع اقتصادي يعني تحقيق التنمية الاقتصادية () .
- ٥- التضخم يفيد الدائن ويضر المدين () .



السؤال الثالث :

أ- عددي ثلاثة لكل مما يلي :

١- أسباب المشكلة الاقتصادية :

.....
.....
.....

٢- أنواع النظم الاقتصادية :

.....
.....
.....

ب- حددي أي الموضوعات الآتية ينتمي إلى الإقتصاد الجزئي وأيها ينتمي إلى الإقتصاد

الكلي :

- تحديد سعر الغسالة الكهربائية في السوق (.....)
- البحث في أسباب انتشار البطالة بين بعض الخريجين (.....)
- دراسة العوامل الكامنة وراء الارتفاع العام في الأسعار (.....)
- تفسير زيادة طلب المستهلكين على أجهزة القهوة (.....)

السؤال الرابع :

١٠

(أ) صنفى السلع التالية من حيث كونها معمرة او غير معمرة
(الملابس – الغسالة الكهربائية – الثلاجة – المواد الغذائية)

سلع غير معمرة	سلع معمره

ب- قومي بكتابة القانون والتعويض على حسب المطلوب :

١- إذا أدى ارتفاع سعر القلم الرصاص بنسبة ٢٠%، إلى انخفاض الكمية المطلوبة بنسبة ٢٠% .. احسبي مرونة الطلب أحادي المرونة.

.....
.....

٢- إذا كانت زيادة السعر بنسبة ١٠% تؤدي إلى زيادة الكمية المعروضة بنسبة ٢٠% ... احسبي مرونة العرض السعرية.

.....
.....

ج- خلال الجدول التالي:

- مثلي توازن السوق بيانيا.
- حددي نقطة التوازن وسعر التوازن وكمية التوازن لسوق.

الكمية المعروضة Qs	الكمية المطلوبة Qd	السعر P
٧٠٠	٣٠٠	٥٠
٥٠٠	٥٠٠	٣٠
٤٠٠	٦٠٠	٢٠

إنتهت الاسئلة