

| | | |
|-------------|---------------------|---|
| رقم الجلوس | الصف الثالث المتوسط | أسئلة اختبار الفصل الدراسي الثالث 1445 هـ |
| عدد الصفحات | الزمن ساعة | المادة اجتماعيات |
| اسم الطالبة | | |

| السؤال | س1 | س2 | س3 | س4 | المصححة | المراجعة | المدققة |
|--------------|----|----|----|----|---------|----------|---------|
| الدرجة رقما | | | | | | | |
| الدرجة كتابة | | | | | | | |

استعيني بالله ثم أجيب عن الأسئلة التالية

السؤال الأول :

(أ) اكمل الفراغات التالية :

- 1- ينقسم العمل المساحي إلى قسمين هما و
- 2- تنقسم المساحة المستوية إلى قسمين هما و
- 3- هناك عوامل متعددة تتحكم في اقتصاد أي دولة من أبرزها..... و
- 4- من أنواع البطالة..... و
- 5- أنواع التطوع و

(ب) عللي ما يأتي

- سبب تنوع الخرائط

.....

- أهمية علم المساحة

.....

- يمثل النفط المورد الأساسي للوطن.

.....

السؤال الثاني

| (أ) | | اختار من العمود (أ) ما يناسبه من العمود (ب) | |
|-------|----------------|---|---|
| | | (أ) | (ب) |
| 1 | خريطة تاريخية. | | تحتوي حقول النفط في منطقة الخليج العربي . |
| 2 | خريطة سكانية | | توضح طريق هجرة نبينا محمد صل الله عليه وسلم من مكة المكرمة إلى المدينة المنورة. |
| 3 | خريطة مناخية | | تبين الحدود بين المملكة العربية السعودية والمملكة الأردنية. |
| 4 | خريطة اقتصادية | | تمثل مناطق نزول الأمطار صيفا في شبه الجزيرة العربية. |
| 5 | خريطة سياسية | | توضح الهجرات البشرية في العالم. |

(ب) اختاري المصطلح الصحيح من بين الأقواس وضعيه في الفراغ المناسب

(الصورة الجوية - الخريطة - الإنجاز الذاتي - العمل - الذوق العام)

- 1- هي وسيلة لتمثيل سطح الكرة الأرضية أو جزء منه بظواهره الطبيعية والبشرية على لوحة مستوية.
- 2- مجهودٌ إرادي يؤديه الإنسان لإنتاج سلعة أو تقديم خدمة، مقابل الحصول على أجر
- 3- هي صورة لجزء من سطح الأرض تلتقط بالطائرات والمناطيد المزودة بألات تصوير.
- 4- هو حالة داخلية مستمرة مرتبطة بمشاعر الفرد توجهه نحو التخطيط للعمل
- 5- هو جميع القيم والضوابط والآداب التي تحكم سلوك الإنسان في المجتمع.

السؤال الثالث

(أ) صوبي ما تحته خط في الجمل التالية

| التصويب | الجملة | |
|---------|--|---|
| | الأعمال التطوعية تكون تحت إشراف جهة بدون ترخص لها. | 1 |
| | حفظ النعمة وجمع الفائض من الطعام عمل تطوعي لا يخدم الوطن | 2 |
| | آداب الذوق العام غير مرتبطة بالمسؤولية. | 3 |
| | التطور التقني لم يقلل من الاعتماد على الأيدي العاملة. | 4 |
| | حدد إطار الخريطة بعد الانتهاء من رسمها. | 5 |
| | تنشابه الرموز في كل مفاتيح الخرائط | 6 |

(يكتب في باثنان فقط)

(ب) عددي ما يأتي

1- الصور الجوية نوعان

.....

.....

2- فوائد نظام تحديد المواقع العالمي

.....

.....

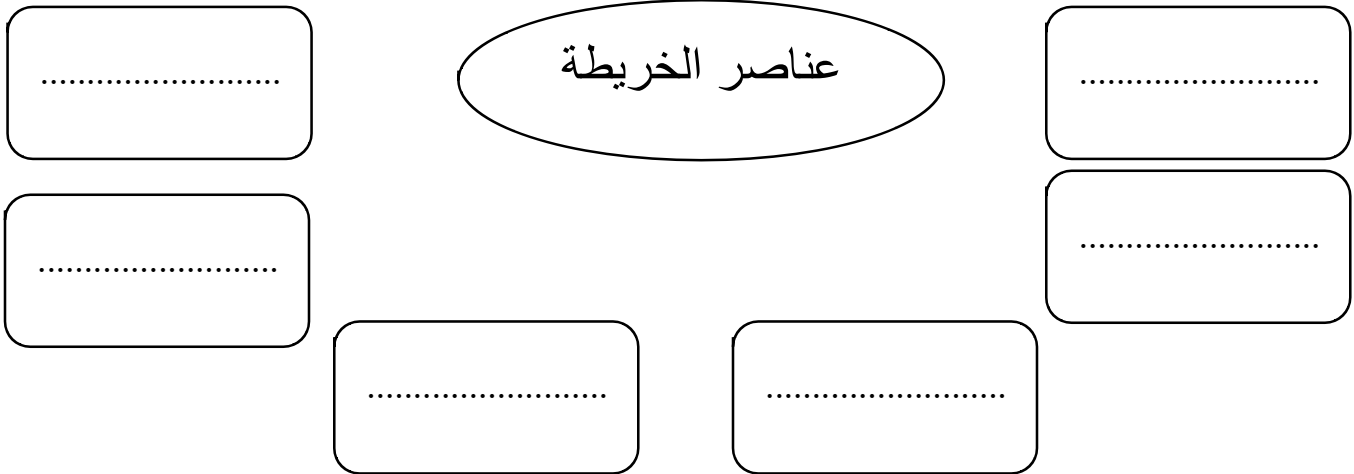
أقلمي الصفحة

السؤال الرابع

اختراري الإجابة الصحيحة من الإجابات المتعددة التالية على أن تكون إجابة واحد فقط

| | | | |
|-----------------------------|-------------------|---------------------------------|------------------------|
| من أنواع الخرائط الطبيعية | | | |
| التضاريسية | الزراعية | السكانية | السياحية |
| برنامج (وقار) | | | |
| مساعدة كبار السن | تهتم بالحجاج | توعية المجتمع بأهمية حفظ النعمة | مستحي الضمان الاجتماعي |
| برنامج كن عوناً هدفه مساعدة | | | |
| إرشاد ضيوف الرحمن | توزيع فائض | الاقتصاد الوطني | السياحة |
| من أنواع الخرائط بشرية | | | |
| الخرائط المناخية | الخرائط التاريخية | خرائط النبات الطبيعي | |

ب) صممي خريطة مفاهيم



انتهت الأسئلة
مع تمنياتي لك بالتوفيق
اذكروني بدعوة

معلمة المادة

| | | |
|-------------|---------------------|--|
| رقم الجلوس | الصف الثالث المتوسط | أسئلة اختبار الفصل الدراسي الثالث 144 هـ |
| عدد الصفحات | الزمن ساعة | المادة اجتماعات |
| اسم الطالبة | | |

نموذج الإجابة

| السؤال | س 1 | س 2 | المصححة | المراجعة | المدققة |
|--------------|-----|-----|---------|----------|---------|
| الدرجة رقما | | | | | |
| الدرجة كتابة | | | | | |

استعيني بالله ثم أجيب عن الأسئلة التالية

السؤال الأول :

(أ) اكمل الفراغات التالية :

- 1- ينقسم العمل المساحي إلى قسمين هما الرفع و التوقيع
- 2- تنقسم المساحة المستوية إلى قسمين هما المساحة الطبوغرافية و المساحة التفصيلية
- 3- هناك عوامل متعددة تتحكم في اقتصاد أي دولة من أبرزها الاستقرار و الموارد
- 4- من أنواع البطالة الهيكلية و الاختيارية
- 5- أنواع التطوع تطوع فردي و تطوع مؤسسي

(ب) عللي ما يأتي

- سبب تنوع الخرائط

باختلاف المعلومات والموضوعات ومدى الحاجة إليها.

- أهمية علم المساحة

١- أساس مهم في معظم المشروعات الهندسية.

٢- أساس في عمل الخرائط.

- يمثل النفط المورد الأساسي للوطن.

١- لأنها ثاني أكبر دولة في العالم تمتلك احتياطات نفطية

٢- ثاني أكبر منتج للنفط في العالم.

السؤال الثاني

| (أ) | | اختار من العمود (أ) ما يناسبه من العمود (ب) | |
|-------|----------------|---|---|
| (أ) | | (ب) | |
| 1 | خريطة تاريخية | ٤ | تحتوي حقول النفط في منطقة الخليج العربي . |
| 2 | خريطة سكانية | ١ | توضح طريق هجرة نبينا محمد صل الله عليه وسلم من مكة المكرمة إلى المدينة المنورة. |
| 3 | خريطة مناخية | ٥ | تبين الحدود بين المملكة العربية السعودية والمملكة الأردنية. |
| 4 | خريطة اقتصادية | ٣ | تمثل مناطق نزول الأمطار صيفا في شبه الجزيرة العربية. |
| 5 | خريطة سياسية | ٢ | توضح الهجرات البشرية في العالم. |

(ب) اختاري المصطلح الصحيح من بين الأقواس وضعية في الفراغ المناسب

(الصورة الجوية - الخريطة - الإنجاز الذاتي - العمل - الذوق العام)

- 1- الخريطة هي وسيلة لتمثيل سطح الكرة الأرضية أو جزء منه بظواهره الطبيعية والبشرية على لوحة مستوية.
- 2- العمل مجهودٌ إرادي يؤديه الإنسان لإنتاج سلعة أو تقديم خدمة، مقابل الحصول على أجر
- 3- الصورة الجوية هي صورة لجزء من سطح الأرض تلتقط بالطائرات والمناطيد المزودة بألات تصوير.
- 4- الإنجاز الذاتي هو حالة داخلية مستمرة مرتبطة بمشاعر الفرد توجهه نحو التخطيط للعمل
- 5- الذوق العام هو جميع القيم والضوابط والآداب التي تحكم سلوك الإنسان في المجتمع.

السؤال الثالث

(أ) صوبي ما تحته خط في الجمل التالية

| التصويب | الجملة |
|------------|--|
| مرخص لها | الأعمال التطوعية تكون تحت إشراف جهة بدون ترخيص لها. |
| يخدم الوطن | حفظ النعمة وجمع الفائض من الطعام عمل تطوعي لا يخدم الوطن |
| مرتبطة | آداب الذوق العام غير مرتبطة بالمسؤولية. |
| يقلل | التطور التقني لم يقلل من الاعتماد على الأيدي العاملة. |
| قبل | حدد إطار الخريطة بعد الانتهاء من رسمها. |
| تختلف | تشابه الرموز في كل مفاتيح الخرائط |

(يكتب في باثنان فقط)

(ب) عددي ما يأتي

- 1- الصور الجوية نوعان
- ١- الصور الجوية الرأسية.
- ٢- الصور الجوية المائلة.
- 2- فوائد نظام تحديد المواقع العالمي
- ١- تحديد المواقع تحديد دقيق.
- ٢- تحديد اتجاه القبلة.

السؤال الرابع

اختاري الإجابة الصحيحة من الإجابات المتعددة التالية على أن تكون إجابة واحد فقط

| | | | |
|------------------------------|-------------------|---------------------------------|------------------------|
| من أنواع الخرائط الطبيعية | | | |
| التضاريسية | الزراعية | السكانية | السياحية |
| برنامج (وقار) | | | |
| مساعدة كبار السن | تهتم بالحجاج | توعية المجتمع بأهمية حفظ النعمة | مستحي الضمان الاجتماعي |
| برنامج كنّ عوناً هدفه مساعدة | | | |
| إرشاد ضيوف الرحمن | توزيع فائض | الاقتصاد الوطني | السياحة |
| من أنواع الخرائط بشرية | | | |
| الخرائط المناخية | الخرائط التاريخية | خرائط النبات الطبيعي | |

ب (صممي خريطة مفاهيم



انتهت الأسئلة
مع تمنياتي لك بالتوفيق
اذكروني بدعوة

معلمة المادة



السؤال الأول: اختاري الإجابة الصحيحة فيما يلي ثم قومي بتضليل الحرف المناسب لها في نموذج الإجابة (١ - ٣٠):

| | |
|----------------------|--|
| ١ | يحيط بالخريطة من الخارج يسمى: |
| أ- مقياس الرسم . | ب- عنوان الخريطة. |
| ج- اتجاه الخريطة. | د- إطار الخريطة . |
| ٢ | يساعد على تحديد إحداثيات أي مكان على سطح الأرض بدقة عالية وفق خطوط الطول ودوائر العرض مفهوم: |
| أ- نظام TRA. | ب-نظام GPS . |
| ج-نظام MPA . | د- نظام LBS . |
| ٣ | نقل المعالم التي في الطبيعة إلى الخريطة من عمل المساحي: |
| أ- الرفع . | ب- التوقيع . |
| ج- التصوير . | د-التخطيط. |
| ٤ | تحديد نقط على سطح الأرض للمساحات الشاسعة مع الأخذ في الحسبان كروية الأرض مفهوم المساحة: |
| أ-المستوية. | ب-الجيويديسية. |
| ج-الطبوغرافية. | د-التفصيلية. |
| ٥ | تحديد الزمن والموقع على سطح الكرة الأرضية مسمى المساحة: |
| أ- الأرضية. | ب- الملاحية. |
| ج- الفلكية. | د- المعدنية. |
| ٦ | تقاطع خطوط الطول مع دوائر العرض يعرف بـ: |
| أ-الإحداثيات. | ب- مقياس الرسم. |
| ج-عنوان الخريطة. | د-إطار الخريطة. |
| ٧ | توضح طريقة هجرة نبينا محمد صلى الله عليه وسلم من مكة المكرمة إلى المدينة المنورة خريطة: |
| أ- سياسية. | ب- مناخية. |
| ج- اقتصادية. | د- تاريخية. |
| ٨ | من تتوفر لديهم مهارات ولا تتوفر لهم فرص عمل بطالة: |
| أ-الهيكلية. | ب- الاختيارية. |
| ج-الوظيفية. | د-المقتعة. |
| ٩ | من المشكلات الاقتصادية الناتجة عن حركة العرض والطلب مشكلة: |
| أ- الاقتصاد. | ب- التضخم. |
| ج- البطالة. | د- الإنتاج . |
| ١٠ | قدرة الشخص على أداء واجباته وتحمل نتائج أقواله وأفعاله وما ينتج عنها مفهوم: |
| أ- المواطنة. | ب- الذوق العام. |
| ج- المسؤولية. | د- التطوع. |
| ١١ | عمل محدد يقوم على مبادرة ذاتية بدوافع دينية أو قيمية تطوع: |
| أ- مؤسسي. | ب- فردي. |
| ج- جماعي. | د- سياسي. |
| ١٢ | خدمة ضيوف الرحمن هدف برنامج: |
| أ- تكاتف . | ب- إحسان . |
| ج- وقار . | د- كن عوناً . |
| ١٣ | من آداب الذوق العام: |
| أ- خفض الصوت. | ب- توفر الرعاية الصحية. |
| ج- الدفاع عن الوطن . | د- حماية حقوق الانسان. |
| ١٤ | يبين موضوع الخريطة والمكان الذي تمثله مفهوم: |
| أ- عنوان الخريطة. | ب- الإتجاه . |
| ج- الإحداثيات . | د- المقياس. |
| ١٥ | النسبة بين البعد على الخريطة وما يقابله على الطبيعة مفهوم: |
| أ-الإحداثيات. | ب- مفتاح الخريطة. |
| ج- مقياس الرسم. | د- الإطار. |
| ١٦ | لا تحتاج إلى مفتاح لأنها توضح الظواهر كما هي في الطبيعة من صفات : |

يتبع

| | | | |
|----------------------|---|----------------------|----------------------|
| أ- الظواهر الطبيعية. | ب- الاحداثيات. | ج- الخريطة. | د- الصور الجوية. |
| ١٧ | المحافظة على الصلوات الخمس من : | | |
| أ-حقوق المواطن. | ب-واجبات المواطن. | ج-المسؤولية الذاتية. | د-الذوق العام. |
| ١٨ | مجموعة من المصطلحات و الرموز تمثل الظواهر والمعالم التي على الخريطة هي: | | |
| أ- اتجاه الخريطة. | ب- مفتاح الخريطة. | ج- إطار الخريطة. | د- مقياس الرسم. |
| ١٩ | مساعدة كبار السن ودعم حقوقهم هدف برنامج: | | |
| أ-وقار. | ب-إطعام. | ج-كن عوناً. | د-تكاتف. |
| ٢٠ | من يسخر نفسه ووقته وجهده أو ماله بطوعية لمساعدة الآخرين بما لا يلزمه مفهوم: | | |
| أ- المتواضع. | ب-المتعاون. | ج-المحامي. | د-المتطوع. |
| ٢١ | هو ما ينجزه النشاط الإنساني من سلع أو خدمات منتجة من المواد الخام أو المعارف أو المهارات مفهوم: | | |
| أ- العمل. | ب- الاقتصاد. | ج- التطوع. | د- الإنتاج. |
| ٢٢ | توضح خطوط الطول ودوائر العرض والحدود السياسية والإدارية من صفات: | | |
| أ-الخريطة. | ب-الصور الجوية. | ج-الاحداثيات. | د-الظواهر الطبيعية. |
| ٢٣ | الثواب والأجر من فوائد: | | |
| أ- التطوع. | ب-الذوق. | ج- المواطنة. | د- المسؤولية. |
| ٢٤ | ضعف الإنتاج من آثار البطالة: | | |
| أ- الاجتماعية. | ب- الاقتصادية. | ج- السياسية. | د- الدينية. |
| ٢٥ | سهم أو نحوه يشير إلى جهة الشمال هو: | | |
| أ-اتجاه الخريطة. | ب-إطار الخريطة. | ج-الإحداثيات. | د-مقياس الرسم. |
| ٢٦ | بذل الجهد والوقت أو المال أو الثلاثة معاً عن رغبة واختيار بغرض أداء خدمة دون توقع أجر مالي مفهوم: | | |
| أ-التطوع | ب-المسؤولية. | ج-الواجبات. | د-الذوق العام. |
| ٢٧ | توفير التعليم العام من: | | |
| أ-حقوق المواطن. | ب-واجبات المواطن. | ج-الذوق العام. | د-المسؤولية الذاتية. |
| ٢٨ | جميع القيم والضوابط والآداب التي تحكم سلوك الإنسان في المجتمع مفهوم: | | |
| أ-المسؤولية. | ب-الذوق العام. | ج-المواطنة. | د-الحقوق. |
| ٢٩ | برنامج وطني لتقديم إعانات مالية شهرية لمدة سنة وتوطين الوظائف هو: | | |
| أ-حافز. | ب-هدف. | ج-منشآت. | د-تيسير. |
| ٣٠ | العاملين دون إنجاز والعاملين الذين يؤدون أعمالاً دون مؤهلاتهم مفهوم البطالة: | | |
| أ-الاختيارية. | ب-الفكرية. | ج-المقنعة. | د-الوظيفية. |

السؤال الثاني:

أربط بين العمود (أ) و ما يناسبه في العمود (ب):

| الرقم | العمود(أ)المفهوم | الحرف | العمود (ب)المعنى |
|-------|------------------------|-------|---|
| ١ | الخرائط المناخية | أ | تمثل التوزيع البشري وكثافته في أماكن محددة. |
| ٢ | الخرائط السكانية | ب | تمثل الحدود بين الدول. |
| ٣ | الخرائط النبات الطبيعي | ج | تمثل اتجاه الرياح في فصل الصيف. |
| ٤ | الخرائط السياسية | د | تمثل توزيع الغابات المطيرة. |
| | | هـ | تمثل مواقع المعارك وامتداد الدول. |

السؤال الثالث: اجبني بصح أو خطأ في العبارات التالية ثم ظللي الحرف المناسب في ورقة الإجابة (١٠-١) .

يتبع

| | | | |
|-----|----|----|--|
| خطأ | صح | ١ | من أعمال التطوع أداء الواجبات المدرسية. |
| خطأ | صح | ٢ | التزام آداب الذوق العام يؤدي إلى المواطنة الصالحة. |
| خطأ | صح | ٣ | من واجبات الدولة توفير الأمن للجميع. |
| خطأ | صح | ٤ | عندما يكون الإنسان منجزاً فإنه يشعر بالرضا. |
| خطأ | صح | ٥ | حث الإسلام على العمل والإنجاز. |
| خطأ | صح | ٦ | تتشابه الرموز في كل مفاتيح الخرائط . |
| خطأ | صح | ٧ | التضخم غير مضر بالاقتصاد. |
| خطأ | صح | ٨ | من الآثار الاجتماعية للبطالة قلة الجرائم. |
| خطأ | صح | ٩ | الانتماء للوطن يعيق مسيرة التقدم. |
| خطأ | صح | ١٠ | الأمن والاستقرار أثر في نمو الاقتصاد الوطني. |

السؤال الرابع: أجبني على الأسئلة التالية وفق ما درستي:

١- وضح المقصود من برنامج جودة الحياة؟

.....

.....

.....

٢- عددي العوامل التي تساعد على تحقيق الإنجاز الذاتي؟

.....

.....

٣ - برأيك ما أبرز فوائد الانتماء للوطن ((وفق ما درستي)).

.....

.....

.....

.....

★ سدد الله خطاكن ★
أ/ريم

السؤال الأول: اختاري الإجابة الصحيحة فيما يلي ثم قومي بتضليل الحرف المناسب لها في نموذج الإجابة (١ - ٣٠):

| | | | | | |
|----|--|-------------------|-------------------------|----------------------|------------------------|
| ١ | يحيط بالخريطة من الخارج يسمى: | أ- مقياس الرسم . | ب- عنوان الخريطة. | ج- اتجاه الخريطة. | د- إطار الخريطة. |
| ٢ | يساعد على تحديد إحداثيات أي مكان على سطح الأرض بدقة عالية وفق خطوط الطول ودوائر العرض مفهوم: | أ- نظام TRA. | ب- نظام GPS. | ج- نظام MPA. | د- نظام LBS. |
| ٣ | نقل المعالم التي في الطبيعة إلى الخريطة من عمل المساحي: | أ- الرفع. | ب- التوقيع . | ج- التصوير . | د- التخطيط. |
| ٤ | تحديد نقط على سطح الأرض للمساحات الشاسعة مع الأخذ في الحسبان كروية الأرض مفهوم المساحة: | أ- المستوية. | ب- الجيوديسية. | ج- الطبوغرافية. | د- التفصيلية. |
| ٥ | تحديد الزمن والموقع على سطح الكرة الأرضية مسمى المساحة: | أ- الأرضية. | ب- الملاحية. | ج- الفلكية. | د- المعدنية. |
| ٦ | تقاطع خطوط الطول مع دوائر العرض يعرف بـ: | أ- الإحداثيات. | ب- مقياس الرسم. | ج- عنوان الخريطة. | د- إطار الخريطة. |
| ٧ | توضح طريقة هجرة نبينا محمد صلى الله عليه وسلم من مكة المكرمة إلى المدينة المنورة خريطة: | أ- سياسية. | ب- مناخية. | ج- اقتصادية. | د- تاريخية. |
| ٨ | من تتوفر لديهم مهارات ولا تتوفر لهم فرص عمل بطالة: | أ- الهيكلية. | ب- الاختيارية. | ج- الوظيفية. | د- المقنعة. |
| ٩ | من المشكلات الاقتصادية الناتجة عن حركة العرض والطلب مشكلة: | أ- الاقتصاد. | ب- التضخم. | ج- البطالة. | د- الإنتاج . |
| ١٠ | قدرة الشخص على أداء واجباته وتحمل نتائج أقواله وأفعاله وما ينتج عنها مفهوم: | أ- المواطنة. | ب- الذوق العام. | ج- المسؤولية. | د- التطوع. |
| ١١ | عمل محدد يقوم على مبادرة ذاتية بدوافع دينية أو قيمية تطوع: | أ- مؤسسي. | ب- فردي. | ج- جماعي. | د- سياسي. |
| ١٢ | خدمة ضيوف الرحمن هدف برنامج: | أ- تكاتف . | ب- إحسان . | ج- وقار . | د- كن عوناً. |
| ١٣ | من آداب الذوق العام: | أ- خفض الصوت. | ب- توفر الرعاية الصحية. | ج- الدفاع عن الوطن . | د- حماية حقوق الانسان. |
| ١٤ | يبين موضوع الخريطة والمكان الذي تمثله مفهوم: | أ- عنوان الخريطة. | ب- الاتجاه . | ج- الإحداثيات . | د- المقياس. |
| ١٥ | النسبة بين البعد على الخريطة وما يقابله على الطبيعة مفهوم: | أ- الإحداثيات. | ب- مفتاح الخريطة. | ج- مقياس الرسم. | د- الإطار. |

| | | |
|-----------------------|--|-----------------------|
| ١٦ | لا تحتاج إلى مفتاح لأنها توضح الظواهر كما هي في الطبيعة من صفات : | |
| أ- الظواهر الطبيعية. | ب- الاحداثيات. | ج- الخريطة. |
| د- الصور الجوية. | | |
| ١٧ | المحافظة على الصلوات الخمس من : | |
| أ- حقوق المواطن | ب- واجبات المواطن. | ج- المسؤولية الذاتية. |
| د- الذوق العام. | | |
| ١٨ | مجموعة من المصطلحات و الرموز تمثل الظواهر والمعالم التي على الخريطة هي : | |
| أ- اتجاه الخريطة. | ب- مفتاح الخريطة. | ج- إطار الخريطة. |
| د- مقياس الرسم. | | |
| ١٩ | مساعدة كبار السن ودعم حقوقهم هدف برنامج : | |
| أ- أوقار. | ب- إ طعام. | ج- كن عوناً. |
| د- تكاتف. | | |
| ٢٠ | من يسخر نفسه ووقته وجهده أو ماله بطوعية لمساعدة الآخرين بما لا يلزمه مفهوم : | |
| أ- المتواضع. | ب- المتعاون. | ج- المحامي. |
| د- المتطوع. | | |
| ٢١ | هو ما ينجزه النشاط الإنساني من سلع أو خدمات منتجة من المواد الخام أو المعارف أو المهارات مفهوم : | |
| أ- العمل. | ب- الاقتصاد. | ج- التطوع. |
| د- الإنتاج. | | |
| ٢٢ | توضح خطوط الطول ودوائر العرض والحدود السياسية والإدارية من صفات : | |
| أ- الخريطة. | ب- الصور الجوية. | ج- الاحداثيات. |
| د- الظواهر الطبيعية. | | |
| ٢٣ | الثواب والأجر من فوائد : | |
| أ- التطوع. | ب- الذوق. | ج- المواطنة. |
| د- المسؤولية. | | |
| ٢٤ | ضعف الإنتاج من آثار البطالة : | |
| أ- الاجتماعية. | ب- الاقتصادية. | ج- السياسية. |
| د- الدينية. | | |
| ٢٥ | سهم أو نحوه يشير إلى جهة الشمال هو : | |
| أ- اتجاه الخريطة. | ب- إطار الخريطة. | ج- الإحداثيات. |
| د- مقياس الرسم. | | |
| ٢٦ | بذل الجهد والوقت أو المال أو الثلاثة معاً عن رغبة واختيار بغرض أداء خدمة دون توقع أجر مالي مفهوم : | |
| أ- التطوع. | ب- المسؤولية. | ج- الواجبات. |
| د- الذوق العام. | | |
| ٢٧ | توفير التعليم العام من : | |
| أ- حقوق المواطن. | ب- واجبات المواطن. | ج- الذوق العام. |
| د- المسؤولية الذاتية. | | |
| ٢٨ | جميع القيم والضوابط والآداب التي تحكم سلوك الإنسان في المجتمع مفهوم : | |
| أ- المسؤولية. | ب- الذوق العام. | ج- المواطنة. |
| د- الحقوق. | | |
| ٢٩ | برنامج وطني لتقديم إعانات مالية شهرية لمدة سنة وتوطين الوظائف هو : | |
| أ- حافز. | ب- هدف. | ج- منشآت. |
| د- تيسير. | | |
| ٣٠ | العاملين دون إنجاز والعاملين الذين يؤدون أعمالاً دون مؤهلاتهم مفهوم البطالة : | |
| أ- الاختيارية. | ب- الفكرية. | ج- المقنعة. |
| د- الوظيفية. | | |

السؤال الثاني:

أربط بين العمود (أ) و ما يناسبه في العمود (ب):

| الرقم | العمود (أ) المفهوم | الحرف | العمود (ب) المعنى |
|-------|-----------------------------|-------|---|
| ١ | الخرائط المناخية (ج) | أ | تمثل التوزيع البشري وكثافته في أماكن محددة. |
| ٢ | الخرائط السكانية (أ) | ب | تمثل الحدود بين الدول. |
| ٣ | الخرائط النبات الطبيعية (د) | ج | تمثل اتجاه الرياح في فصل الصيف. |
| ٤ | الخرائط السياسية (ب) | د | تمثل توزيع الغابات المطيرة. |
| | | هـ | تمثل مواقع المعارك وامتداد الدول. |

السؤال الثالث: اجبني بصح أو خطأ في العبارات التالية ثم ظللي الحرف المناسب في ورقة الإجابة (١-١٠) :

| | | | |
|-----|----|----|--|
| خطأ | صح | ١ | من أعمال التطوع أداء الواجبات المدرسية. |
| خطأ | صح | ٢ | التزام آداب الذوق العام يؤدي إلى المواطنة الصالحة. |
| خطأ | صح | ٣ | من واجبات الدولة توفير الأمن للجميع. |
| خطأ | صح | ٤ | عندما يكون الإنسان منجزاً فإنه يشعر بالرضا. |
| خطأ | صح | ٥ | حث الإسلام على العمل والإنجاز. |
| خطأ | صح | ٦ | تتشابه الرموز في كل مفاتيح الخرائط . |
| خطأ | صح | ٧ | التضخم غير مضر بالاقتصاد. |
| خطأ | صح | ٨ | من الآثار الاجتماعية للبطالة قلة الجرائم. |
| خطأ | صح | ٩ | الانتماء للوطن يعيق مسيرة التقدم. |
| خطأ | صح | ١٠ | الأمن والاستقرار أثر في نمو الاقتصاد الوطني. |

السؤال الرابع: اجبني على الأسئلة التالية وفق ما درستي:

١- وضح المقصود من برنامج جودة الحياة؟

من برامج رؤية المملكة ٢٠٣٠ برنامج جودة الحياة الذي يخدم عدة جوانب، منها: الجانب الاقتصادي، ويسهم في خفض البطالة بتوفير فرص عمل كثيرة، في عدد من الأنشطة الترفيهية، والخدمية، والترويجية، والرعاية الصحية، والإسكان، والنقل.

٢- عددي العوامل التي تساعد على تحقيق الإنجاز الذاتي؟

-التزود بالمعارف والمهارات. /-الطموح. /-المثابرة والمواظبة. /-تحمل المسؤوليات. /-الثقة بالنفس. /-الاستفادة من الأخطاء من أجل الا تتكرر.

٣ - برأيك ما أبرز فوائد الانتماء للوطن ((وفق ما درستي)).

من سمات المواطن الصالح قوة ولائه وانتمائه؛ بحيث يكون قادراً على الوعي بأحوال وطنه وقضاياها والتحديات التي تواجهه، كما يكون قادراً على مقاومة الشائعات التي تضر بوطنه، ومقدراً لجهود الدولة ومنجزاتها في خدمة الدين والفرد والمجتمع.

ومن أبرز فوائد الانتماء للوطن ما يأتي:

- تحقيق أمر شرعي أمر الله به في القرآن الكريم، وأمر به نبيّه محمد ﷺ.
- تعزيز الوحدة الوطنية، واستقرار الوطن، وتماسكه.
- تحقيق الاستقرار النفسي المؤدي إلى التفاعل الإيجابي، والمواطنة الصالحة.
- دفع مسيرة التقدم والتطور في البلاد، سياسياً واقتصادياً.
- حماية الوطن ومكتسباته.
- تأمين الاستقرار المجتمعي الخالي من العنف والإرهاب والانحلال.



سدد الله خطاكن

أ/ ريم ابومازن

وزارة التعليم
إدارة تعليم
مكتب
مدرسة



المادة : الدراسات الاجتماعية
الصف : ثالث متوسط
الزمن : ساعة ونصف

اختبار الفصل الدراسي الثالث (الدور الأول) لعام ١٤٤٥ هـ

اسم الطالب :

| اسم المراجع | اسم المصحح | الدرجة كتابة | الدرجة رقماً | س ٢ | س ١ |
|-------------|------------|-----------------|--------------|-----|-----|
| | | | | | |
| التوقيع: | التوقيع: | أربعون درجة فقط | ٤٠ | ٣٠ | ١٠ |
| | | | | | |

السؤال الأول: ضع علامة (√) أمام العبارة الصحيحة وعلامة (X) أما العبارة الخاطئة :

١٠

| م | العبارة | الإجابة |
|-----|---|---------|
| ١. | ليس مهم توفير حقيبة الإسعافات الأولية في المنزل | |
| ٢. | من أقسام الغاز في المملكة الغاز الغير مرافق للنفط | |
| ٣. | من محاور التنمية المستدامة العناية بصحة أفراد المجتمع | |
| ٤. | لا تعد ظاهرة التفحيط ظاهرة اجتماعية خطيرة | |
| ٥. | يعد النفط أهم مصادر الطاقة في العالم | |
| ٦. | تعمل التنمية على النهوض بالمجتمعات في شتى المجالات . | |
| ٧. | من وسائل التنمية الصحية المستشفيات والمدن الطبية | |
| ٨. | يقاس تقدم الدول بحجم انتاجها الصناعي . | |
| ٩. | رؤية ٢٠٣٠ لا تحقق التنمية | |
| ١٠. | الإنجاز الذاتي مرتبط بمشاعر الفرد | |

السؤال الثاني: اختر الإجابة الصحيحة:

٣٠

| | | |
|--|------------------|------------------------|
| ١. المياه السطحية في المملكة تنقسم إلى | | |
| أ) أربع أقسام | ب) ثلاثة أقسام . | ج) قسمين |
| ٢. من المياه السطحية في المملكة | | |
| أ) مياه البحار | ب) مياه الأنهار | ج) مياه العيون |
| ٣. يُعد من أكبر الأودية في المملكة وأطولها | | |
| أ) وادي الرمة الباطن | ب) وادي السرحان | ج) وادي تربة . |
| ٤. تتحدر روافده من مرتفعات السروات وينتهي في الربع الخالي | | |
| أ) وادي الرمة الباطن | ب) وادي السرحان | ج) وادي الدواسر |
| ٥. ينحدر من بلاد زهران ويعرف بوادي الخرمة | | |
| أ) وادي الرمة الباطن | ب) وادي الدواسر | ج) وادي تربة |
| ٦. المياه التي لا يمكن الاستفادة منها في الاستخدام البشري هي | | |
| أ) مياه الصرف الصحي | ب) مياه البحر | ج) مياه الآبار والعيون |
| ٧. بدأ التنقيب عن النفط في المملكة في عهد الملك | | |
| أ) خالد | ب) سعود . | ج) عبدالعزيز |
| ٨. تم أول اكتشاف للنفط بكميات تجارية في بنر | | |
| أ) السفانية | ب) الدمام | ج) الغوار . |
| ٩. اكتشف النفط في المملكة بكميات كبيرة عام : | | |
| أ) ١٣٥٧هـ . | ب) ١٤٠٠هـ . | ج) ١٣٥٩هـ . |
| ١٠. يمتاز بأنه أكبر حقول النفط على اليابس مساحة وإنتاجاً في العالم | | |
| أ) حقل الدمام | ب) حقل الغوار | ج) حقل بقيق |
| ١١. يمتاز بالقرب من شاطئ الخليج العربي وهو ثاني حقل مغمور بالمياه في المملكة | | |

| | | |
|---|----------------------|----------------------|
| أ) حقل منيفة | ب) حقل أبو حدرية | ج) حقل الفاضلي |
| ١٢. أهم صادرات المملكة | | |
| أ) الذهب | ب) النفط | ج) الملابس |
| ١٣. يُصنف الإنتاج الصناعي في المملكة إلى | | |
| أ) وحدتين رئيسيتين | ب) ثلاث وحدات رئيسية | ج) أربع وحدات رئيسية |
| ١٤. الصناعات الأساسية في المملكة تعتمد معظمها على | | |
| أ) الفوسفات | ب) الزنك | ج) النفط |
| ١٥. الصناعات التحويلية في المملكة مثل | | |
| أ) المواد الغذائية | ب) البتروكيماوية. | ج) تكرير النفط. |
| ١٦. من المدن السياحية الجبلية في المملكة | | |
| أ) الرياض | ب) أبها | ج) الدمام |
| ١٧. خطوات تحقيق الإنجاز الذاتي | | |
| أ) تحديد الأهداف | ب) عدم بذل الجهد | ج) التخطيط |
| ١٨. النشاط الإنساني للحصول على السلع والخدمات من المواد الخام أو المعارف هو | | |
| أ) العمل | ب) التخطيط | ج) الإنتاج |
| ١٩. عند انخفاض أسعار النفط تتأثر موارد الدولة وبتالي | | |
| أ) يثبت الإنفاق | ب) يزيد الإنفاق | ج) يتقلص الإنفاق |
| ٢٠. هناك العديد من الموارد الطبيعية و منها | | |
| أ) السكان | ب) النفط | ج) السوق |
| ٢١. مشكلة اقتصادية واجتماعية تعني ألا تنتهيا فرص للعمل للباحثين عنه | | |
| أ) العمل | ب) البطالة | ج) الإنتاج |
| ٢٢. من الآثار الاقتصادية للبطالة | | |
| أ) الأمراض النفسية | ب) الجريمة | ج) ضعف الإنتاج |

| | | |
|---|----------------|--------------------|
| ٢٣. توفر وزارة الصحة خدمات تسجيل المواعيد عبر تطبيق | | |
| أ) منتظر | ب) موعد | ج) مستشفى |
| ٢٤. توفر وزارة الصحة خدمة اتصال على مدار الساعة للحصول على استشارة طبية على الرقم | | |
| أ) ٩٣٧ | ب) ٩٣٨ | ج) ٩٣٩ |
| ٢٥. أول آيات نزلت على الرسول صلى الله عليه وسلم وتحث على التعلم والقراءة كانت في سورة | | |
| أ) الإخلاص | ب) العلق | ج) الناس |
| ٢٦. أول من أدخل النظام التعليمي المجاني في المملكة هو | | |
| أ) الملك فيصل . | ب) الملك فهد . | ج) الملك عبدالعزيز |
| ٢٧. في الحديث مثل المؤمنين في توادهم وتراحمهم وتعاطفهم مثل : | | |
| أ) الجسد الواحد . | ب) الجماعة . | ج) الأخوة . |
| ٢٨. عدد السدود في المملكة العربية السعودية أكثر من | | |
| أ) ٥٠٠ سد | ب) ٦٠٠ سد | ج) ٧٠٠ سد |
| ٢٩. قطار يربط بين مكة المكرمة والمدينة المنورة مروراً بجدة | | |
| أ) قطار الرياض | ب) قطار الشمال | ج) قطار الحرمين |
| ٣٠. مجموعة من الإجراءات والوسائل التي تتخذ للوقاية من وقوع الأخطار والحوادث | | |
| أ) الحوادث | ب) السلامة | ج) الجريمة |

انتهت الأسئلة ،،،، مع تمنياتي لكم بالتوفيق والنجاح ،،،، معلم المادة /

المادة : الدراسات الاجتماعية
الصف : ثالث متوسط
الزمن : ساعة ونصف



وزارة التعليم
إدارة تعليم
مكتب
مدرسة

اختبار الفصل الدراسي الثالث (الدور الأول) لعام ١٤٤٥ هـ

الإجابة النموذجية

| اسم المراجع | اسم المصحح | الدرجة كتابة | الدرجة رقماً | س ٢ | س ١ |
|-------------|------------|-----------------|--------------|-----|-----|
| | | | | | |
| التوقيع: | التوقيع: | أربعون درجة فقط | ٤٠ | ٣٠ | ١٠ |
| | | | | | |

السؤال الأول: ضع علامة (√) أمام العبارة الصحيحة وعلامة (X) أما العبارة الخاطئة:

١٠

| م | العبارة | الإجابة |
|-----|---|-------------------------------------|
| ١. | ليس مهم توفير حقيبة الإسعافات الأولية في المنزل | <input checked="" type="checkbox"/> |
| ٢. | من أقسام الغاز في المملكة الغاز الغير مرافق للنفط | <input checked="" type="checkbox"/> |
| ٣. | من محاور التنمية المستدامة العناية بصحة أفراد المجتمع | <input checked="" type="checkbox"/> |
| ٤. | لا تعد ظاهرة التفحيط ظاهرة اجتماعية خطيرة | <input checked="" type="checkbox"/> |
| ٥. | يعد النفط أهم مصادر الطاقة في العالم | <input checked="" type="checkbox"/> |
| ٦. | تعمل التنمية على النهوض بالمجتمعات في شتى المجالات . | <input checked="" type="checkbox"/> |
| ٧. | من وسائل التنمية الصحية المستشفيات والمدن الطبية | <input checked="" type="checkbox"/> |
| ٨. | يقاس تقدم الدول بحجم إنتاجها الصناعي . | <input checked="" type="checkbox"/> |
| ٩. | رؤية ٢٠٣٠ لا تحقق التنمية | <input checked="" type="checkbox"/> |
| ١٠. | الإنتاج الذاتي مرتبط بمشاعر الفرد | <input checked="" type="checkbox"/> |

السؤال الثاني: اختر الاجابة الصحيحة:


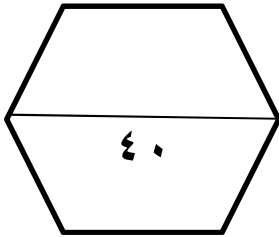
٣٠

| | | |
|--|----------------------|------------------------|
| ١. المياه السطحية في المملكة تنقسم إلى | | |
| أ) أربع أقسام | ب) ثلاثة أقسام . | ج) <u>قسمين</u> |
| ٢. من المياه السطحية في المملكة | | |
| أ) مياه البحار | ب) مياه الأنهار | ج) <u>مياه العيون</u> |
| ٣. يُعد من أكبر الأودية في المملكة وأطولها | | |
| أ) <u>وادي الرمة الباطن</u> | ب) وادي السرحان | ج) وادي تربة . |
| ٤. تنحدر روافده من مرتفعات السروات وينتهي في الربع الخالي | | |
| أ) وادي الرمة الباطن | ب) وادي السرحان | ج) <u>وادي الدواسر</u> |
| ٥. ينحدر من بلاد زهران ويعرف بوادي الخرمة | | |
| أ) وادي الرمة الباطن | ب) وادي الدواسر | ج) <u>وادي تربة</u> |
| ٦. المياه التي لا يمكن الاستفادة منها في الاستخدام البشري هي | | |
| أ) <u>مياه الصرف الصحي</u> | ب) مياه البحر | ج) مياه الآبار والعيون |
| ٧. بدأ التنقيب عن النفط في المملكة في عهد الملك | | |
| أ) خالد | ب) سعود . | ج) <u>عبدالعزیز</u> |
| ٨. تم أول اكتشاف للنفط بكميات تجارية في بنر | | |
| أ) السفاتية | ب) <u>الدمام</u> | ج) الغوار . |
| ٩. اكتشف النفط في المملكة بكميات كبيرة عام : | | |
| أ) <u>١٣٥٧هـ.</u> | ب) ١٤٠٠هـ. | ج) ١٣٥٩هـ. |
| ١٠. يمتاز بأنه أكبر حقول النفط على اليابس مساحة وإنتاجاً في العالم | | |
| أ) حقل الدمام | ب) <u>حقل الغوار</u> | ج) حقل بقيق |
| ١١. يمتاز بالقرب من شاطئ الخليج العربي وهو ثاني حقل مغمور بالمياه في المملكة | | |

| | | |
|---|----------------------|-------------------------|
| أ) <u>حقل منيفة</u> | ب) حقل أبو حدرية | ج) حقل الفاضلي |
| ١٢. أهم صادرات المملكة | | |
| أ) الذهب | ب) <u>النفط</u> | ج) الملابس |
| ١٣. يُصنف الإنتاج الصناعي في المملكة إلى | | |
| أ) <u>وحدتين رئيسيتين</u> | ب) ثلاث وحدات رئيسية | ج) أربع وحدات رئيسية |
| ١٤. الصناعات الأساسية في المملكة تعتمد معظمها على | | |
| أ) الفوسفات | ب) الزنك | ج) <u>النفط</u> |
| ١٥. الصناعات التحويلية في المملكة مثل | | |
| أ) <u>المواد الغذائية</u> | ب) البتروكيمياوية. | ج) تكرير النفط. |
| ١٦. من المدن السياحية الجبلية في المملكة | | |
| أ) الرياض | ب) <u>أبها</u> | ج) الدمام |
| ١٧. خطوات تحقيق الإنجاز الذاتي | | |
| أ) تحديد الأهداف | ب) عدم بذل الجهد | ج) <u>التخطيط</u> |
| ١٨. النشاط الإنساني للحصول على السلع والخدمات من المواد الخام أو المعارف هو | | |
| أ) العمل | ب) التخطيط | ج) <u>الإنتاج</u> |
| ١٩. عند انخفاض أسعار النفط تتأثر موارد الدولة وبتالي | | |
| أ) يثبت الإنفاق | ب) يزيد الإنفاق | ج) <u>يتقلص الإنفاق</u> |
| ٢٠. هناك العديد من الموارد الطبيعية و منها | | |
| أ) السكان | ب) <u>النفط</u> | ج) السوق |
| ٢١. مشكلة اقتصادية واجتماعية تعني ألا تنتهيا فرص للعمل للباحثين عنه | | |
| أ) العمل | ب) <u>البطالة</u> | ج) الإنتاج |
| ٢٢. من الآثار الاقتصادية للبطالة | | |
| أ) الأمراض النفسية | ب) الجريمة | ج) <u>ضعف الإنتاج</u> |

| | | |
|---|-------------------|---------------------------|
| ٢٣. توفر وزارة الصحة خدمات تسجيل المواعيد عبر تطبيق | | |
| أ) منتظر | ب) <u>موعد</u> | ج) مستشفى |
| ٢٤. توفر وزارة الصحة خدمة اتصال على مدار الساعة للحصول على استشارة طبية على الرقم | | |
| أ) <u>٩٣٧</u> | ب) ٩٣٨ | ج) ٩٣٩ |
| ٢٥. أول آيات نزلت على الرسول صلى الله عليه وسلم وتحث على التعلم والقراءة كانت في سورة | | |
| أ) الإخلاص | ب) <u>العلق</u> | ج) الناس |
| ٢٦. أول من أدخل النظام التعليمي المجاني في المملكة هو | | |
| أ) الملك فيصل . | ب) الملك فهد . | ج) <u>الملك عبدالعزيز</u> |
| ٢٧. في الحديث مثل المؤمنين في توادهم وتراحمهم وتعاطفهم مثل : | | |
| أ) <u>الجسد الواحد .</u> | ب) الجماعة . | ج) الأخوة . |
| ٢٨. عدد السدود في المملكة العربية السعودية أكثر من | | |
| أ) <u>٥٠٠ سد</u> | ب) ٦٠٠ سد | ج) ٧٠٠ سد |
| ٢٩. قطار يربط بين مكة المكرمة والمدينة المنورة مروراً بجدة | | |
| أ) قطار الرياض | ب) قطار الشمال | ج) <u>قطار الحرمين</u> |
| ٣٠. مجموعة من الإجراءات والوسائل التي تتخذ للوقاية من وقوع الأخطار والحوادث | | |
| أ) الحوادث | ب) <u>السلامة</u> | ج) الجريمة |

انتهت الأسئلة ،،،، مع تمنياتي لكم بالتوفيق والنجاح ،،،، معلم المادة /

| | | | | | |
|--------------------------------------|---|--|--|---------|--------|
| صن ح ننج | ک |  وزارة التعليم Ministry of Education | ی پچ گجج ح طکل ح هن بخکی لن کج چ پکی ی محج مدق چ طق | | |
| | و | | ه ر | م | ج ل |
| | و | | ط ک د ۵ م | د چ ط ف | خج ک د |
| | و | | ط ی نج ح | | |
| مگم نج ح طک ، ج ک طنج <u>نج ح</u> | |  | ننی یی و ، طنج ننجن المخر ی م عو صن ط نج د ی ک ۲ صن ط لا | | |

السؤال الأول : أجب بعلامة (√) أمام العبارة الصحيحة وعلامة (X) أمام العبارة الخاطئة :

| | |
|--|--|
| | صل ع فجن مع فد هك بطلخر ی ن بخلج مع فد خ غس ق مئع حشعج عن یخ ح خ غس شف ف ا ط لئع مئع مفیدیت فغ مئج مع فد لئج ل ا د مئج ا ی م ض ع فجن مع فد هر ص یجور ص ۷ نخلی مع فد خ ن لا انو کی ج ی مع فد عتن فح ک د ی س ح ج ه ص ف ی ق ی سن ف طکل ۷ بخج ر ه ر ی ف ۲ نط ی خف عتن نط ی ل خف ممل ۷ فد بت ط ط ی ج خف نص ی د ح م . |
|--|--|

السؤال الثاني : اختر الإجابة الصحيحة في الجمل التالية وذلك بوضع علامة (√) في المربع الذي أمامك :

| | | | | | |
|--|---|---|--|--|---|
| | | لا مع ق ه نخلو کی لئج ق مئع فح ک د م ش لئج ۵ م ش مع ۲ ط ل ۳ مئج | | لا صل خید و طفن مئع ن غس ه م ی ۲ ق مئع فح ک د صل مئع کی سد ی ط ح | |
| | <input type="checkbox"/> | س | | <input type="checkbox"/> | س |
| | <input type="checkbox"/> | | | <input type="checkbox"/> | |
| | <input type="checkbox"/> | ف | | <input type="checkbox"/> | ف |
| | <input type="checkbox"/> | ل | | <input type="checkbox"/> | ل |
| | لا عن یجور ی طفن ن خخف مئج س ه یج هر ممل خ مئع ن ص ج شف ف ا ط لئع مئع | | | خ غس مئع ل ا مئع یج ص ی کی ۲ ط ی ی یج مئج عتن ص د ۲ ن مئع فد | |
| | <input type="checkbox"/> | س | | <input type="checkbox"/> | س |
| | <input type="checkbox"/> | | | <input type="checkbox"/> | |
| | <input type="checkbox"/> | ف | | <input type="checkbox"/> | ف |
| | <input type="checkbox"/> | ل | | <input type="checkbox"/> | ل |

| س م غوس | | ج ط لا نج و | |
|--|--------------------------|---|-------------------------|
| س | <input type="checkbox"/> | س | نه ج شفه نه ا ط شمع جمع |
| س | <input type="checkbox"/> | س | نه مائع نج کد |
| | <input type="checkbox"/> | | ص ج |
| ف | <input type="checkbox"/> | ف | شمع نه |
| ل | <input type="checkbox"/> | ل | شمع پد ص ج |
| ی مضم ۲ ق ۲ حص ز | | ط ص ح می پد خ ۳ کد یط ص می پد یلو | |
| س | <input type="checkbox"/> | س | یکد ملان |
| | <input type="checkbox"/> | | س ص ۴ |
| ف | <input type="checkbox"/> | ف | حص پد |
| ل | <input type="checkbox"/> | ل | نه ج طن |
| ی م ص ج ف طکل ۷ | | ی مضم پنجر ی ف | |
| س | <input type="checkbox"/> | س | خه پد کد مسد |
| | <input type="checkbox"/> | | خه ص ف د |
| ف | <input type="checkbox"/> | ف | خه پد کد ی کج ۲ |
| ل | <input type="checkbox"/> | ل | مؤ ر ج طن |
| لال رنل ۷ متل ۲ ممل بنف طکس د خرفی هرید بچ و یه ا کی س م | | خه ج ۲ ممل کج ۲ | |
| س | <input type="checkbox"/> | س | ۴ |
| | <input type="checkbox"/> | | ۴ |
| ف | <input type="checkbox"/> | ف | ۴ |
| ل | <input type="checkbox"/> | ل | ۴ |
| ی ز ن خرفی | | ۴ م ج ی خرمع صالی بلان ۵ خرمع ی م ی کیو | |
| س | <input type="checkbox"/> | س | ج پد کد |
| | <input type="checkbox"/> | | ج پد قمد |
| ف | <input type="checkbox"/> | ف | ج پد شخند |
| ل | <input type="checkbox"/> | ل | ج پد یج |
| ی طشم ۲ م ط ۵۵۵ ۵ ل س ۵ ج ۲ نه کد طکس شمع | | ی طکس ۴ ط پد نه ه و یکنی م ی کس ی کج ح م پد | |
| س | <input type="checkbox"/> | س | ف جبن |
| | <input type="checkbox"/> | | خه |
| ف | <input type="checkbox"/> | ف | خه |
| ل | <input type="checkbox"/> | ل | کیو خه ک |
| ی ع ج خه | | ی مضم خه کی ۲ م ط | |
| س | <input type="checkbox"/> | س | ی طس بلال یه یج |
| | <input type="checkbox"/> | | بلان ۵ م |
| ف | <input type="checkbox"/> | ف | ممن ی م یو |
| ل | <input type="checkbox"/> | ل | مؤ ر ج طن |

| ی | س | ف | ل |
|---|---|---|---|
| س | س | س | س |
| ف | ف | ف | ف |
| ل | ل | ل | ل |

السؤال الثالث: اكتب الرقم المناسب من المجموعة (أ) أمام ما يناسبه من المجموعة (ب) :

| ی کد س | ح ح | ی کد |
|---------------------|-----|--|
| طلس س د ی ل طح | | ملمع ٲ پالاج ٲ مفر ممع نف خمه عی ح د ح ٣ کھی ٥ ک خج ع و |
| طلس س د طح ح | | ملمع ٲ پالاج ن طي ممع نف خمه عی ح د ی س و ح ٣ ج ٣ م ن ٣ ی ی کھی فح کد ٥ ممع ح |
| ک ٣ ممع فح | | نکسم کچ ١ طلس س د مرمه خلف ممر علم ی طفس ن ل ٣٥ لادج ٢ ممع ح ن |
| ٢ قج ٢ | | نکسم مرمص ٢ نف کی طفس ن ی ی طلس س د ممع طکد ی شص ی طلس ٣ ممع ح ن |
| طلس س د خمه عی ح | | طی ص ٧ صل ی غ ممع فح |
| طلس س د فح ملمع م ح | | ٢ قج ٢ بجم ف طلس س د کی مرمص ص ج س ٧ ی ج ٣ کی طفس ن ص ن د کج ح ص من شص ن ١ ل ٥ نع ممع |
| طلس س د | | لا ص ١ بخلص ٥ ن س ٥ ج اس ٥ ن د ی کج ک ن ل ح ٥ شخج ن ملمع ر ل ر ض ی د ی خج ک ح س ٥ ی ج ل خ د ل ٣٥ خ ن س ممع جتی |
| ج ص | | لا ه ل طلس ن خ ج کس ٨ طلس ج نفی ج ص ٧ مرمص کی ضن ممع |
| خ غشی | | لا ضن ممش ع کی سل ر ٥ ح ٣ ٥٥ ی و ی ج نوس ن ٣ ی م کج ٢ |
| خ ف | | لا س ج ل شی ح ی طلس م ی ج فح ممع ممع |

بخلا طلس

ی ن ج ی ی خ من ٢٥ ج ق

ع ک ل شص ممی ی

| | | |
|----|---|-----|
| 1 | يحدد اطار الخريطة بعد الانتهاء من رسمه | () |
| 2 | يفيد مقياس الرسم في معرفة المسافه الحقيقية من مكان الى مكان اخر على الطبيعة | () |
| 3 | تتشابه الرموز في كل مفاتيح الخرائط | () |
| 4 | تساعد المساحة على تمثيل المواقع الطبيعية فقط | () |
| 5 | اختلاف المعلومات التي تقدمها الخرائط أدى الى تنوعها | () |
| 6 | تحدد أجهزة GPS الأماكن على سطح الأرض بدقة عالية | () |
| 7 | نستفيد من علم المساحة في دراسة الشكل العام لسطح الأرض | () |
| 8 | من استعمالات الصور الجوية تحديد المواقع الأثرية | () |
| 9 | من افضل مقاييس رسم الخرائط مقياس الرسم الكتابي | () |
| 10 | الخرائط المناخية هي التي تمثل الظواهر المناخية على سطح الأرض مثل الحرارة | () |

1- من أنواع الخرائط الطبيعية

| | | | | | |
|---|-------------------------|---|------------------------|---|-----------------------|
| أ | التضاريسية | ب | الزراعة | ج | السكانية |
| 2 برنامج (وقار) يهدف الى | | | | | |
| أ | مستحقي الضمان الاجتماعي | ب | مساعدة كبار السن | ج | الحجاج |
| 3 من اداب الذوق العام | | | | | |
| أ | إيذاء الآخرين | ب | اتلاف الممتلكات العامة | ج | افشاء السلام |
| 4- من اقسام العمل المساحي | | | | | |
| أ | الرفع | ب | المساحة الفلكية | ج | المساحة البشرية |
| 5- من مجالات الأقتصاد الوطني | | | | | |
| أ | الصناعة | ب | التخطيط | ج | السوق |
| 6- من ابرز أسس العمل وعوامل نجاحه | | | | | |
| أ | الأتقان | ب | تأجيل الاعمال | ج | عدم الابداع والابتكار |
| 7- هي قدرة الشخص على اداء واجباته و تحمل المسؤولية | | | | | |
| أ | المسؤولية | ب | التطوع | ج | المواطنة |
| 8- من اثار التضخم | | | | | |
| أ | ارتفاع نسبة البطالة | ب | زيادة الضرائب | ج | ارتفاع أجور العاملين |
| 9- مبادرة تأهيل وادي عرعر من مبادرة التي تنصب في خدمة | | | | | |
| أ | البيئة | ب | التعليم | ج | التراث |
| 10- من مكونات نظام تحديد المواقع العالمي (GPS) | | | | | |
| أ | المساحة | ب | التحكم | ج | التوقيع |

| الصور الجوية | وجه المقارنة | الخريطة |
|--------------|---------------------|---------|
| | المفتاح | |
| | الظاهرة التي تفسرها | |
| | تفاصيل سطح الأرض | |

ب/ اكمل خرائط المفاهيم التالية



| ج/ أربطي بين العمود [أ] بما يناسبه في العمود [ب] بوضع الرقم المناسب في مربع الإجابة : | | |
|---|---------|--------------------------------|
| العمود [أ] | الإجابة | العمود [ب] |
| 1- من المشاكل الاقتصادية | | مسؤولية وطنية |
| 2- من صفات المتطوع | | الموارد |
| 3- هو ما ينجزة النشاط الإنساني من سلع وخدمات | | عنوان الخريطة |
| 4- هي التي تحوي على حقول النفط في منطقة الخليج العربي | | البطالة الهيكلية |
| 5- من أنواع البطالة | | الخريطة الاقتصادية |
| 6- من العوامل المؤثرة في الاقتصاد الوطني | | الانتاج |
| 7- من أنواع المسؤولية | | الأخلاص بالعمل |
| 8- يبين موضوع الخريطة والمكان الذي تمثله | | الاعتماد على النفط موردا للدخل |

ب/ عددي اثنان من عناصر الخريطة ؟

-1 -2

معلمة المادة

انتهت الأسئلة

| | | | |
|---|---|---|--|
| المملكة العربية السعودية وزارة التعليم إدارة التعليم بمنطقة المدرسة متوسطة | بسم الله الرحمن الرحيم  وزارة التعليم Ministry of Education | المادة: الصف: الزمن: السنة الدراسية: | الدراسات الاجتماعية الثالث المتوسط ساعة ونصف 1443 |
|---|---|---|--|

15

السؤال الأول:- اختر الإجابة الصحيحة من الفقرات الاختيارية التالية بوضع دائرة حول الإجابة:-

1. المياه التي تجمعت قديماً في باطن الأرض كونت :

| | | | | | | | |
|---|---------|---|--------|---|----------|---|---------|
| أ | الطبقات | ب | العيون | ج | الابودية | د | الشعبان |
|---|---------|---|--------|---|----------|---|---------|

2. الوادي الذي يمتد من مدينة عمان حتى الجوف يسمى وادي:

| | | | | | | | |
|---|---------|---|-------|---|------|---|---------|
| أ | السرطان | ب | الرمة | ج | تربة | د | الدواسر |
|---|---------|---|-------|---|------|---|---------|

3. ترتيب وطني المملكة العربية السعودية في مجال تحلية المياه :

| | | | | | | | |
|---|-------|---|--------|---|--------|---|--------|
| أ | الأول | ب | الثاني | ج | الثالث | د | الرابع |
|---|-------|---|--------|---|--------|---|--------|

4. تم اكتشاف النفط في وطني سنة

| | | | | | | | |
|---|--------|---|--------|---|--------|---|--------|
| أ | 1357هـ | ب | 1377هـ | ج | 1400هـ | د | 1403هـ |
|---|--------|---|--------|---|--------|---|--------|

5. من اغنى الجهات في وطني بالمياه السطحية.

| | | | | | | | |
|---|------------|---|---------|---|------------------|---|--------------|
| أ | تهامة عسير | ب | الاحساء | ج | المنطقة الشمالية | د | الربع الخالي |
|---|------------|---|---------|---|------------------|---|--------------|

6. يتوفر في وطني كثير من مقومات السياحة منها :-

| | | | | | | | |
|---|--------------|---|---------|---|--------------|---|------------------|
| أ | مصادر الطاقة | ب | المصانع | ج | النفط والغاز | د | المناطق السياحية |
|---|--------------|---|---------|---|--------------|---|------------------|

7. من مقومات الصناعة المتوفرة في المملكة :

| | | | | | | | |
|---|-----------|---|---------|---|--------------|---|------------|
| أ | رأس المال | ب | الأسواق | ج | المواد الخام | د | جميع ماسبق |
|---|-----------|---|---------|---|--------------|---|------------|

8. من تتوفر لهم مهارات ولا تتوفر لهم فرصة عمل:

| | | | | | | | |
|---|------------------|---|-----------------|---|--------------------|---|------------------|
| أ | البطالة الوظيفية | ب | البطالة المقنعة | ج | البطالة الاختيارية | د | البطالة الهيكلية |
|---|------------------|---|-----------------|---|--------------------|---|------------------|

9. الطلب المستمر والعالي على السلع والخدمات مع قلة العرض :

| | | | | | | | |
|---|---------|---|---------|---|---------|---|--------|
| أ | البطالة | ب | التنمية | ج | الموارد | د | التضخم |
|---|---------|---|---------|---|---------|---|--------|

10. من وسائل التنمية الصحية:

| | | | | | | | |
|---|---------|---|------------------|---|---------------|---|------------|
| أ | المدارس | ب | المراكز التجارية | ج | الطرق والجسور | د | المستشفيات |
|---|---------|---|------------------|---|---------------|---|------------|

11. من وسائل التنمية التعليمية

| | | | | | | | |
|---|-------|---|--------------|---|---------|---|----------|
| أ | الطرق | ب | مراكز التسوق | ج | المصانع | د | الجامعات |
|---|-------|---|--------------|---|---------|---|----------|

12. من المجالات التي تُعنى بوزارة الموارد البشرية والتنمية الاجتماعية .

| | | | | | | | |
|---|---------------|---|---------------|---|-------------------|---|-------------|
| أ | رعاية الايتام | ب | رعاية المسنين | ج | رعاية ذوي الإعاقة | د | جميع ما سبق |
|---|---------------|---|---------------|---|-------------------|---|-------------|

13. المرافق العامة هي .

| | | | | | | | |
|---|---------|---|------------------|---|---------|---|----------------|
| أ | المنازل | ب | المحلات التجارية | ج | المزارع | د | الطرق والحدائق |
|---|---------|---|------------------|---|---------|---|----------------|

14. من الممارسات الخاطئة في القيادة:-

| | | | | | | | |
|---|----------------|---|-----------------|---|------------------------|---|--------------------------|
| أ | السرعة الزائدة | ب | ربط حزام الأمان | ج | التقيد بتعليمات المرور | د | التأكد من سلامة الاطارات |
|---|----------------|---|-----------------|---|------------------------|---|--------------------------|

15. من العادات السيئة التي تنتشر بين افراد المجتمع

| | | | | | | | |
|---|---------|---|----------|---|----------------------|---|-----------------------|
| أ | التدخين | ب | الابتسام | ج | المحافظة على الموارد | د | اماطة الأذى عن الطريق |
|---|---------|---|----------|---|----------------------|---|-----------------------|

السؤال الثاني:-

15

ضع علامة (v) نهاية العبارة الصحيحة وعلامة (x) نهاية العبارة الخاطئة فيما يأتي:

1. استخدامي للمياه باعتدال يضمن استمرارها وتدفعها بإذن الله ()
2. التوعية في وسائل الاعلام ضرورية للمحافظة على الموارد ()
3. المحافظة على موارد وطني تكون بالاعتدال في استخدامها ()
4. تتحقق البطالة في الأشخاص الذين يبحثون عن عمل ولم يجده ()
5. البطالة الهيكلية تكون لمن تتوفر لديهم المهارات ولا يجدون عملاً ()
6. تنتشر المخدرات والجرائم في المجتمعات التي تكثر فيها البطالة ()
7. عندما يكون الانسان منجزاً فإنه يشعر بالرضا ()
8. من خطوات الإنجاز الذاتي التخطيط للأعمال ()
9. حث الإسلام على العمل والانجاز ()
10. التضخم من المشكلات الاقتصادية الناتجة عن حركة العرض فقط ()
11. التطور التقني لم يقلل من الاعتماد على الايدي العاملة ()
12. التنمية تطور شامل ومستمر ()
13. من مجالات التنمية التعليم والصحة ()
14. تسهم التنمية في ارتفاع المجتمع ورفاهيته ()
15. تلبي التنمية احتياجات الناس الحالية فقط ()

4

السؤال الثالث:-

اختر الإجابة الصحيحة من بين الأقواس وضعها في التعريف المناسب (البطالة – التنمية – السياحة – الاقتصاد الوطني)

- 1- التحسين المستمر في الوطن على المستوى الاقتصادي والاجتماعي والثقافي.
- 2- مجموعة عمليات الأنشطة البشرية من انتاج وخدمات واستهلاك.
- 3- الا تنتهياً فرص العمل للأفراد الباحثين عن العمل الراغبين فيه القادرين عليه .
- 4-انتقال فرد او مجموعة من الافراد من مكان اقامتهم الى مكان اخر داخل او خارج الوطن بهدف المتعة والاستجمام والتعرف على ثقافات أخرى.

السؤال الرابع :-

عدد ثلاث فقط مما يأتي

أ. أسباب الحوادث المرورية

..... 1.

..... 2.

..... 3.

ب. الأودية في المملكة العربية السعودية

..... 1.

..... 2.

..... 3.

انتهت الأسئلة وفقكم الله...